

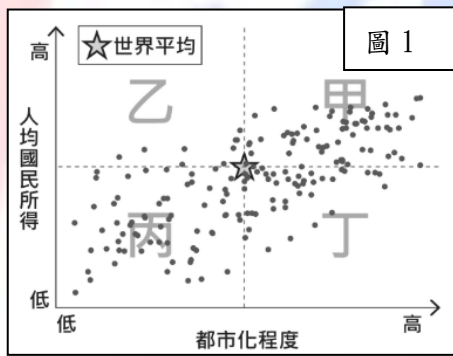
1. 雖然非洲與歐洲、西亞僅一水之隔，但直到 19 世紀末，其內陸仍有許多地區充滿未知，被西方人稱為「黑暗大陸」。若從自然環境的角度分析，早期歐洲探險家難以深入非洲內陸的主要原因為何？

- (A) 東非大裂谷呈南北走向，使東西向往來困難
- (B) 海岸線陡直且天然港灣少，不利交通上往來
- (C) 地理位置較孤立，與其他大洲缺乏接觸機會
- (D) 喀拉哈里沙漠廣布，阻礙整個非洲南北交通

2. 近年來，全球積極發展電動車與綠能產業，帶動鋰、鈷等電池原料需求大增。漠南非洲因此成為國際關注焦點，吸引許多國家與企業投入礦產開發。根據 2025 年美國地質調查局資料，漠南非洲擁有全球極高比例的鉻、錳、鈾、金、鑽石及鈷等礦產儲量。上述現象主要與非洲的哪項自然環境特徵有關？

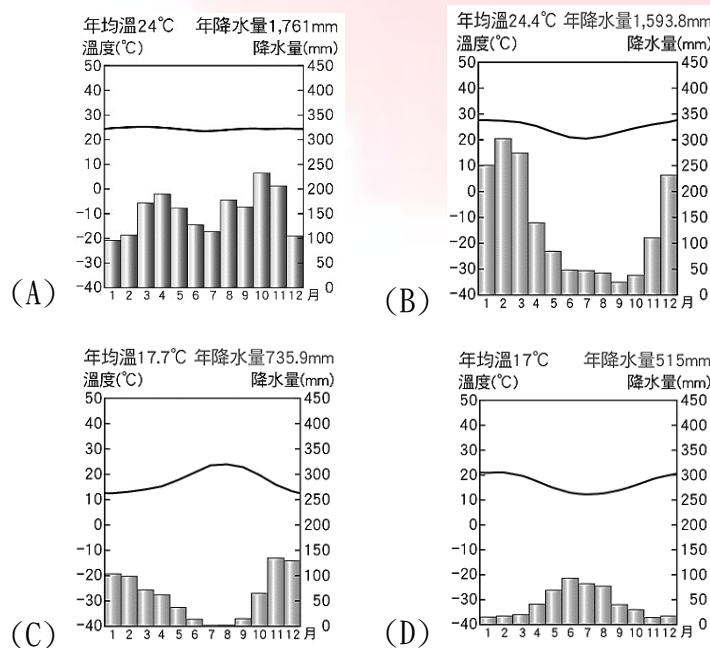
- (A) 熱帶雨林廣布
- (B) 地質年代古老
- (C) 沙漠面積廣大
- (D) 氣候環境多樣

3. 圖 1 為 2019 年世界多數國家都市化程度與人均國民所得的統計圖，圖中以兩項指標的世界平均值為基準，劃分為甲、乙、丙、丁四個區塊。根據各洲經濟及都市發展特色判斷，漠南非洲大部分國家最可能位於圖中哪一區塊？



- (A) 甲
- (B) 乙
- (C) 丙
- (D) 丁

4. 某非洲國家公園以野生動物遷徙聞名，園區景觀以點綴著稀疏樹木的廣闊草原為主。每年皆吸引大量遊客前往觀賞牛羚、斑馬等野生動物遷徙，其中 7~9 月乾季時為全年旅遊旺季。研究發現，當地動物會隨降雨帶移動，成為觀賞野生動物遷移的最佳時機。根據上述判斷，該地區最可能屬於下列何種氣候類型？



5. 為了抑制全球暖化，世界各國政府將以企業碳排量多寡來課徵費用，其中蘋果公司承諾在 2030 年實現整體碳足跡淨零目標，除了減少生產過程二氧化碳的排放，也積極投資與雨林保育相關的計畫專案。根據上述判斷，該公司在非洲的首選投資地點最可能位於何處？



- (A) 剛果盆地
- (B) 東非高原
- (C) 撒哈拉盆地
- (D) 喀拉哈里盆地

6. 漠南非洲許多族群多依賴所處的自然環境維生。圖 2 深色區為富拉尼人最主要分布區。依據當地自然環境判斷，下列何者最可能是該族群的傳統維生方式？



- (A) 在沙漠邊緣牧牛
- (B) 葡萄園採收葡萄
- (C) 在幾內亞灣捕魚
- (D) 在雨林採集果實

7. 漠南非洲擁有豐富的自然資源與多樣的生態景觀，近年來許多國家積極推動產業轉型，希望在提升居民收入的同時，降低對環境的衝擊，以實現永續發展的目標。若以兼顧「經濟發展」與「環境保護」為原則，下列哪項發展策略最符合此理念？

- (A) 象牙海岸：持續擴大經濟作物種植面積，提高產量
- (B) 奈及利亞：擴大石油開採，以降低對農牧業的依賴
- (C) 剛果：大量砍伐原始林以擴建廠房，加速工業發展
- (D) 肯亞：以野生動物與自然景觀資源，發展生態觀光

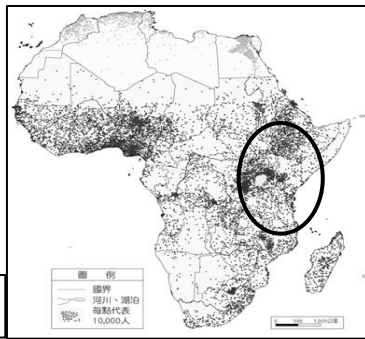
8. 隨著歐洲勢力向海外擴張，漠南非洲長期受到外來統治與文化傳播的影響，不僅經濟結構改變，宗教與建築風格也出現明顯變化。若想提出能說明當地文化深受歐洲國家影響的具體證據，下列哪張圖片最為適切？



- (A) 衣索比亞擬人化木雕
- (B) 金格勒貝爾清真寺
- (C) 聖安娜大教堂
- (D) 圖騰面具

9. 漠南非洲約有 13 億人口，占全球人口 15%，其人口分布如圖 3 所示，圖中○區人口密度明顯高於周圍地區。下列何者最可能為造成此種現象的原因？

圖 3



- (A) 位於熱帶雨林區，全年高溫多雨，農業發達
 (B) 礦產資源豐富，帶動工業發展與人口集中
 (C) 鄰近撒哈拉沙漠，商業活動與交通較便利
 (D) 位於高原地區，氣候涼爽而較適合人居住
10. 有「非洲之角」之稱的索馬利亞，其主要居民為索馬利族，但部分索馬利族人也分布於衣索比亞、肯亞等鄰近國家。第二次世界大戰後，索馬利亞獨立建國，卻因邊界劃分問題多次與鄰國發生衝突。事實上，許多非洲國家都面臨跨國族群分布與邊界爭議等問題。下列何者最可能是上述現象發生的主要原因？
- (A) 礦產資源匱乏引發爭奪
 (B) 搶奪數量稀少的可耕地
 (C) 歐洲傳教影響族群分布
 (D) 列強不當劃分勢力範圍
11. 漠南非洲部分地區的居民因應自然環境條件，發展出具有「遷移耕地」特色的傳統農業。農民會先砍伐並焚燒森林，利用灰燼中養分種植樹薯、小米等作物；但經數年耕作後，土地肥力因作物吸收及自然環境影響而逐漸下降，因此必須休耕並遷移至其他地區開墾。上述農業型態最能反映當地何種自然環境特徵？
- (A) 生長季與雨季無法配合，乾季較長
 (B) 冬雨夏乾，乾溼分明，季節變化大
 (C) 全年高溫多雨，土壤養分容易流失
 (D) 終年炎熱乾燥，降水稀少土壤貧瘠
12. 布吉納法索長期面臨供電不穩，嚴重阻礙工業轉型。近年來在國際協助下，該國利用豐富的日照資源建立目前非洲西部最大的太陽能電廠，並培訓綠能人才。上述政府的積極作為，最主要是為了解決何種困境？
- (A) 礦產枯竭導致能源危機
 (B) 傳染病猖獗影響勞動力
 (C) 基礎設施不足發展受限
 (D) 沙漠擴大導致耕地減少
13. 近年來，衣索比亞除透過建立咖啡品牌提高農產品知名度外，也積極吸引外國企業設廠，像是：H&M、GAP 等服飾品牌，其中還包含臺灣知名紡織廠宏遠興業，皆進駐當地工業園區，希望帶動該國經濟發展並增加就業機會。下列何者最可能是外國企業選擇前往衣索比亞投資設廠的原因？
- (A) 勞動力充足且素質較高，多技術性人才
 (B) 部分產品出口歐洲、中國享零關稅優惠
 (C) 整體基礎設施完善，有助降低生產成本
 (D) 國內消費市場龐大，購買力居非洲之首

14. 烏干達是非洲重要咖啡生產國之一，咖啡為該國最重要且最具價值的出口商品，占全國出口收入約 20%，且約有 1/5 的人口收入主要來自咖啡產業。近年來，政府積極推動咖啡增產，希望透過擴大種植面積來提升國家經濟發展。根據上述內容判斷，烏干達此種產業發展模式較可能面臨下列哪項問題？

- (A) 經濟作物的種植空間被壓縮
 (B) 易受國際市場價格波動影響
 (C) 國內從事二級產業勞工短缺
 (D) 糧食作物的產量易供給過剩

◎位於漠南非洲的迦納是全球重要的可可生產國之一(如圖 4)。當地終年高溫多雨，部分地區分布著茂密森林，十分適合可可樹生長。然而，許多可可農長期只能出售初級原料，產品價格受到中間商及國際市場影響，所得相當有限。為改善此問題，部分農民成立合作社，並進一步創立自有巧克力品牌，將產品直接銷往歐美市場，以提升農民收益與市場競爭力。請回答第 15~17 題：

15. 根據上述可可樹的生長環境判斷及位置圖判斷，迦納位置最接近下列何處？



圖 4

- (A) 剛果河流域
 (B) 印度洋沿岸
 (C) 幾內亞灣沿岸
 (D) 馬達加斯加島

16. 迦納農民成立自有巧克力品牌，並將產品直接銷往國際市場，其主要目的為何？

- (A) 吸引觀光客參觀可可農園
 (B) 提高產品附加價值與收益
 (C) 增加可可種植面積與產量
 (D) 鼓勵年輕人投入農業生產

17. 近年來，部分迦納可可合作社取得「公平貿易」認證，希望透過更公平的交易制度改善農民生活。若消費者希望支持生產者獲得合理報酬與較佳的勞動條件，購買巧克力時應優先選擇下列哪種標章？

(A)


(B)



(C)



(D)



18. 1968 年 5 月的法國巴黎，大學生與工人走上街頭爆發大規模抗爭。在當時的抗議現場中，出現了令西方社會震驚的奇特景象：高大的法國青年手裡揮舞著紅色的法文版《毛主席語錄》，校園牆上貼著「造反有理」的法文字樣，甚至有激進學生領袖公開宣稱要效法中國的「紅衛兵」，徹底砸爛歐洲腐敗的資產階級體制。這場歷史上著名的法國「五月風暴」，其運動本質與當時中國正進行的「文化大革命」其實大不相同。請從上文敘述與歷史脈絡判斷，這場運動反映了文化大革命對當時西方世界的何種影響？
- (A) 紅衛兵組織輸出到歐洲目標在推翻法國政府
(B) 法國青年將文革的造反精神當作反政府工具
(C) 法國學生認同文革決定在巴黎實踐人民公社
(D) 文革思潮影響法國青年，全面倒向共產陣營
19. 1987 年，中國與葡萄牙政府共同發表了一份聯合聲明，中方承諾在「一國兩制」的原則下，在「某地」設立特別行政區，並保持該地區原有的資本主義制度與生活方式「50 年不變」。回歸後，該地以賭博業與旅遊業為經濟支柱，並在 2005 年將其融合中葡文化特色的「歷史城區」成功列入世界文化遺產，成為其獨特的文化名片。根據上文歷史脈絡與發展推論，上述政權移交的「某地」是指下列何地？
- (A) 深圳 (B) 香港
(C) 海南 (D) 澳門
20. 一名年邁的教授在回憶錄中寫道：「1951 年起，學校裡的氣氛徹底變了。原本實驗室裡的歐美原文書被束之高閣，取而代之的是蘇聯專家的講義；更難熬的是頻繁的『洗澡』運動，每個人都要在群眾面前自我剖析，交代過去與舊政權或西方教會的關係，否則無法通過考核。」這段回憶最能反映中共建政初期的哪一項政策？
- (A) 推動土地改革
(B) 實施全面備戰
(C) 整頓私營企業
(D) 加強思想控制
21. 西元 1950 年，某政府公布新法令，在第一章總則中宣稱其目的是「廢除地主階級剝削的土地所有制，藉以解放農村生產力，發展農業生產，為新中國的工業化開闢道路。」根據該政府公布的數據，自法令公布後至 1953 年為止，農業總產值增加 53.1%，糧食產量增加 31.1%，棉花產量也增加了 62.2%。根據上述，新法令的實施顯示當時正在推動下列哪項政策？
- (A) 土地改革 (B) 耕者有其田
(C) 公地放領 (D) 大躍進運動
22. 小英在聽阿公講述年輕時開工廠的故事。阿公說：「一九九〇年代，臺灣的工廠越來越難請到工人，土地租金也變得很貴。為了活下去，阿公只好跟著許多臺灣老闆一起坐飛機去泰國、印尼投資蓋工廠。差不多那個時候開始，政府也開放政策，我們在臺灣的工廠也開始請得到來自東南亞的勞工來幫忙了。」請問：阿公這段年輕時的親身經歷，最適合用來解釋下列哪一種歷史現象的發展背景？
- (A) 臺灣企業到東南亞設廠，引進移工補充人力
(B) 臺灣發展高科技產業，特聘東南亞技術人才
(C) 臺灣突破外交困境，與東南亞發展經貿交流
(D) 東南亞為求區域自主，鼓勵臺商至當地設廠
23. 小強到泰國曼谷旅遊時，參觀了一座紀念館。解說牌上寫著：「西元 1967 年，泰國、印尼、菲律賓等國的代表聚集在這裡發表宣言。他們表示，東南亞各國不想再被捲入美蘇兩大強權的冷戰對抗中，大家要團結起來，靠自己的力量推動區域內的經濟與安全合作……」請問：這群國家發表的宣言，促成了下列哪一個國際組織的誕生？
- (A) 東南亞公約組織 (B) 聯合國
(C) 東南亞國家協會 (D) 亞太經濟合作會議
24. 小華在準備歷史報告時，找到了某個時期中國大陸社會流行語的轉變資料：
- 資料甲：過去人們見面習慣問候「吃飽了沒？」；現在朋友、鄰居見面或寫信開頭，都必須先大聲背誦一句「為人民服務」或「工人階級領導一切」的最高指示。
- 資料乙：城市的工廠裡，技術純熟的老技工與經理因為被貼上「資產階級學術權威」的標籤，被趕去掃廁所；取而代之管理工廠的，是臨時組織起來、天天高喊政治口號的「造反派」工人。
- 請問小華研究的主題，最可能是中國大陸經歷的哪一場歷史事件？
- (A) 政權轉換期的改變
(B) 大躍進與人民公社
(C) 文化大革命的動亂
(D) 鄧小平的改革開放
25. 中華人民共和國自 1949 年至今，對外關係有許多重大事件發生，如：
- 甲、史達林去世後，中蘇關係逐漸交惡
乙、主辦北京奧運，積極參與國際事務
丙、尼克森訪中國，中美兩國互動頻繁
丁、戈巴契夫訪中，中蘇關係恢復正常
- 這些事件發生的先後次序應為：
- (A) 甲乙丙丁 (B) 乙丁甲丙
(C) 甲丙丁乙 (D) 丙乙丁甲

26. 毛澤東是中國共產黨史上舉足輕重的領導人，自 1949 年中華人民共和國成立後，無論在文化、政治、經濟方面都有獨特的見解及堅持的路線，請問：下列哪項政策與他無關？
- (A) 透過農民編組，集體管理農業生產
(B) 私人企業收歸國有，建立國營事業
(C) 利用青少年紅衛兵，破壞傳統文化
(D) 進行改革開放，沿海設置經濟特區
27. 以下是一篇關於 1950 年代中國某場經濟運動的歷史敘述：「當時政府為了在短時間內趕超西方國家，在農村地區強制將土地和勞動力集中管理。同時，為了達成鋼鐵產量的指標，連農民也被動員去建造土高爐煉鋼。然而，大量的壯丁跑去煉鋼，導致農田裡的作物到了秋收季節沒人採收；而地方官員為了討好上級，紛紛虛報糧食產量，導致中央政府徵收了過多的糧食，農民反而沒有飯吃……」請問：根據這段文字，這場運動最終演變成「大饑荒」的最核心原因是什麼？
- (A) 氣候異常與自然災害導致農作物連年大歉收
(B) 政策違背農業規律，虛報產量導致分配失衡
(C) 煉鋼過度，導致糧食成為工業原料消耗殆盡
(D) 農民消極怠工，私下藏匿糧食不願繳交國家
28. 以下是節錄自某位「中國人民志願軍」的老兵回憶錄：「當我們跨過邊界時，上面給我們的命令是去支援兄弟之邦、抵抗侵略。但到了戰場才發現，我們要面對的是聯合國的軍隊，物資裝備極度匱乏。在零下三十多度的嚴寒中，許多戰友沒有棉襖，甚至在等待衝鋒時就被凍成了冰雕……我們付出了巨大的代價，只為了鞏固新政權的安全。」依據上文的敘述，這位老兵參與的最可能是下列哪一場戰爭？
- (A) 韓戰 (B) 第一次世界大戰
(C) 越戰 (D) 第二次世界大戰
29. 以下是關於中國近幾十年社會經濟發展的歷史觀察：「自 1978 年改革開放後，中國設立了深圳等經濟特區，並舉辦北京奧運與上海世博，向世界展現了驚人的財富與現代化建設。然而，在光鮮亮丽的城市背後，卻出現了住在地下室的『鼠族（低薪大學畢業生）』、前往都市打零工的『農民工（北漂）』，這群基層勞動者甚至被官方貼上『低端人口』的標籤。」請問：根據這段文字，中國在追求經濟現代化的過程中，最主要面臨了哪一個深層的社會危機？
- (A) 經濟特區導致東南沿海人口外流、嚴重老化
(B) 城市過度發展導致外資成本太高而撤出中國
(C) 大學畢業生因缺乏專業能力而無法順利就業
(D) 城鄉差距與貧富不均形成了階級與群體歧視
30. 有一則新聞報導提到：「敵方的坦克與大炮已進入首都郊區，美軍直昇機在建築物樓頂與航空母艦之間往返不停，將美國公民與少數當地領導人送到安全處。數萬名曾經支持美國政策的當地人在最後關頭都遭到拋棄，甚至連他們替美國提供情報的記錄都來不及銷毀。」這最可能是下列哪一場戰爭的最後場景？
- (A) 越戰 (B) 國共內戰
(C) 韓戰 (D) 太平洋戰爭
31. 某中共領導人在接見日本國會議員時曾表示：「戰後日本很快就發達起來，這份經驗很值得中國學習。當然，我們不能盲目照搬別人的經驗，因為中國與日本各有不同的國情條件。我們不僅要引進發達國家的資金和技術，充分利用各國的成功經驗，更要把這些經驗與中國的實際國情結合起來。」上述談話的中共領導人最可能是下列何人？
- (A) 毛澤東 (B) 鄧小平
(C) 胡錦濤 (D) 習近平
32. 第二次世界大戰剛結束時，美國原本對中國的內戰，試圖調停交戰雙方，接著採取「不干涉」政策，甚至一度停止軍事援助。然而到後來，美國不僅派遣第七艦隊協防臺灣海峽，還提供大規模的經濟與軍事援助，幫助臺灣建立防衛能力。根據史實判斷，美國改變對臺政策的關鍵原因最可能是下列何者？
- (A) 臺灣爆發二二八事件，社會瀰漫著不安情緒
(B) 韓戰爆發，美國決定全面防堵共產勢力擴張
(C) 蔣中正總統持續向美國爭取民主同盟的信任
(D) 中共對金門發動八二三炮戰，戰火持續擴大
33. 「五四運動」與「六四天安門事件」相隔 70 年，以下為兩者比較的敘述，何者錯誤？
- (A) 兩者皆為學生主導的社會運動
(B) 兩者皆遭政府軍隊的血腥鎮壓
(C) 前者爭取主權，後者爭取民主
(D) 兩場運動的發生地點皆在北京
34. 以下是一位美國人在北京的見聞紀錄：「北京城內瀰漫著新政權誕生的氣象，不久前數十萬群眾才齊聚天安門廣場，隆重舉行開國大典。但此事對美國來說未必是一件好事，因為這個新政權的外交政策是向蘇聯靠攏。現在街頭到處可見『抗美援朝』的海報，美國已被他們視為頭號侵略者……」根據這段紀錄的情境與冷戰初期的局勢，此人最可能是在下列哪一個時期參訪北京？
- (A) 1900 年代，八國聯軍後的北京局勢
(B) 1920 年代，新文化運動時期的北京
(C) 1950 年代，中華人民共和國剛成立
(D) 1970 年代，文化大革命時期的中國

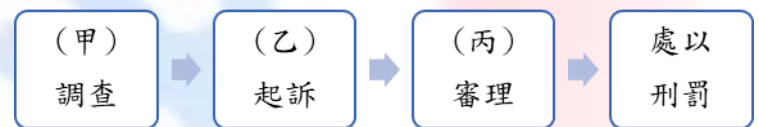
35. 台灣邁入超高齡社會，高齡駕駛交通安全受到關注。交通部推動的高齡駕駛換照新制，從原本75歲下修至70歲。年滿70歲且持有汽、機車駕照的民眾，必須完成體檢，並參加交通安全教育與危險感知體驗課程，經審核通過後換發駕照。若未換照違規駕車上路，依道路交通管理處罰條例，可處新台幣3600元罰單。請問：關於上述內容，下列說明何者正確？
- (A)高齡換照的用意主要是維護高齡者的利益
 (B)駕照管理屬於要求或限制人民的行政責任
 (C)換發駕照與違規駕車罰單皆屬於行政處分
 (D)處以罰單是讓違規者負起罰金的刑事責任
36. 報導：「內政部戶政資料 2022 年遭駭客外洩並在暗網販賣，何姓男子發現戶政個資被外洩，遂向文山區戶政事務所申請變更其身分證字號，但遭拒絕，何男不服因而提出權利救濟。」請問：在上述案例中，何男可能經歷下列何種救濟程序？
- (A)以刑事訴訟途徑維護權益
 (B)向地方立法機關提出訴願
 (C)向調解委員會提行政救濟
 (D)向行政法院提起行政訴訟
37. 台中地院少年保護官帶著 4 位保護管束少年突破種種困難，完成玉山登頂，過程雖狀況不斷，但讓少年感受到一場成功的體驗教育。請問：關於 4 名少年所受的保護處分，與下列何項規定所依據的法規相同？
- (A)不得讓少年從事危險性或有害性的工作
 (B)安置家庭遭遇困境的兒少在適當的福利機構
 (C)將目睹家庭暴力的兒少納入核發保護令的範圍
 (D)由少年矯正學校執行隔離式的過渡性教育措施
38. 在說明憲法與行政法的互動關係時，公民老師整理下列圖示來加以說明，根據內容判斷，其能說明下列哪一項法律關係？
- | | | |
|----------------------------------|---|-----------------------------|
| 憲法第 17 條
人民有選舉、罷免、
創制、複決之權 | ⇒ | 行政法
★公職人員選舉罷免法
★公民投票法 |
|----------------------------------|---|-----------------------------|
- (A)憲法效力較高，行政法若抵觸憲法則無效
 (B)憲法效力較高，憲法則是活生生的行政法
 (C)憲法較抽象，行政法能具體落實憲法規定
 (D)憲法較抽象，行政法是保障人民權利的單獨法典
39. 報導：「近期毒駕肇事屢奪人命，為了遏止毒駕再犯，台北市交通裁決所依法公布毒駕累犯姓名及照片。若民眾有毒駕違規行為，將面臨吊銷駕照及車輛牌照吊扣二年；累犯者處以高額罰鍰；肇事致人重傷或死亡者，得沒入該部車輛。」根據上文判斷，下列敘述何者最適當？
- (A)交通裁決所依據法規是社會秩序維護法
 (B)政府可對毒駕違規者要求負擔相關行政責任
 (C)民眾若不服處罰，可透過司法機關提起訴願
 (D)若不服訴願，可以向行政機關提起行政訴訟

40. 法律研究社團上課時，老師請學生發表對「罰鍰與罰鍰」及「拘留與拘役」的比較敘述，請問：下列哪位學生的說法最正確？
- (A)罰鍰、拘役屬於刑罰，罰金、拘留屬於行政罰
 (B)施以拘留、罰鍰處罰，皆須遵守依法行政原則
 (C)竊盜罪可處以罰鍰，妨害公眾安寧則可處以罰金
 (D)拘役是由行政機關依法科處，拘留是由法院宣告
41. 人民從小到大的生活與行政法息息相關，請問：以下學生列舉的日常生活行為哪些屬於行政法的範疇？
- (A)甲乙丙己 (B)乙丙丁戊
 (C)甲乙丁戊 (D)丙丁戊己

代號	行為
甲	爸媽每年都會繳納所得稅。
乙	家人幫外婆申請長期照護服務。
丙	弟弟假日與朋友打球跌倒受傷。
丁	我的家人都有投保全民健康保險。
戊	爺爺收到未依規定變換車道的罰單。
己	我放學後要去上鋼琴課，學習彈奏技巧。

題組一：根據內容回答第42至43題

新北市校園割頸案造成楊姓國中生死亡，郭生和林生各被判刑12年、11年，此案被批評司法過度保護少年犯，引發各界要求修正少年事件處理法。司法院經過研議，近日通過少年事件處理法的修正草案，新增被害人訴訟參與權利，以及調整假釋與少年前案紀錄制度，持續完善我國少年司法制度，後續法律修正草案將送交立法院審議。



42. 上述案件已作出判決，該案處理流程如圖。請依我國法律規定與附圖內容推論，下列相關敘述何者正確？
- (A)依法 (甲) 應為少年法庭
 (B)依法 (乙) 應為少年保護官
 (C) (丙) 由少年法庭審理為少年保護事件
 (D)由圖文中可推論郭生與林生應未滿 14 歲
43. 少年事件處理法在法律界常被稱為愛的法律，規定在處理少年事件時，基於保護少年的精神，要遵守相關規定。請問：下列敘述何者符合現行規定？
- (A)採取審理公開原則
 (B)犯罪紀錄不可塗銷
 (C)以保護代替監禁並標籤犯罪少年
 (D)媒體報導須保護少年個資及照片

《背面尚有題目，請翻下頁》

題組二：根據內容回答第44至45題

警政署統計2024年少年犯罪主要案件類型（如圖），以詐欺、竊盜和傷害等為主。其中，少年犯罪集中在詐欺，最多是擔任車手。車手是詐騙集團中負責提領贓款的犯罪行為，少年在求職網站上，常因誤信輕鬆高薪、代收包裹等工作而誤入陷阱，將面臨相關法律責任。

★普通詐欺罪（刑法第339條）：意圖為自己或第三人不法之所有，以詐術使人交付財物或獲取不法利益者，處5年以下有期徒刑、拘役或科或併科50萬元以下罰金。



44. 從上述內容判斷，我國少年若涉及詐欺行為，所需承擔的法律責任較符合下列何者？
- (A) 詐欺罪是最輕本刑為5年以上有期徒刑的犯罪
 (B) 少年觸犯詐欺罪，都會依少年刑事案件審理判刑
 (C) 12歲以上未滿14歲的少年車手會處以保護處分
 (D) 少年因未成年不處以刑罰，但父母須負刑事責任
45. 少年求職須優先注意勞動法規保障與防詐騙安全。請問：勞動基準法對童工的保障規定，下列何者正確？
- (A) 童工是15歲以上未滿18歲者
 (B) 僱用童工無須法定代理人同意
 (C) 童工午後6時到隔天凌晨8時不能工作
 (D) 雇主違反規定，將面臨罰鍰、有期徒刑處分

題組三：根據內容回答第46至47題

少年事件處理法2023年修正上路，對於曝險少年由「行政輔導先行」，盼及時拉住觸法邊緣少年一把。但桃園市少年輔導委員會（少輔會）統計，桃園目前曝險少年約168名，但再犯罪率高達6成，許多曝險少年家庭功能不健全，易使少年受金錢誘惑，導致再犯率高；市府因此推動「未來工匠崛起培育計畫」，媒合高風險青少年接受職訓，並提供津貼，透過培養一技之長導回正途。

46. 根據上文，下列哪個對象為文中要行政輔導的對象？
- (A) 製造並販賣毒品而觸犯刑法的少年
 (B) 計畫在百貨公司竊盜未成功的少年
 (C) 無照駕駛超速被警察開罰單的少年
 (D) 攜帶危險器械路上隨機砍人的少年
47. 對於行為處於犯罪邊緣的曝險少年，從少年事件處理的程序來分析，下列敘述何者正確？
- (A) 以懲罰代替教育的理念，輔導處理曝險少年行為
 (B) 曝險少年先由少輔會處理，必要才進入少年法院
 (C) 曝險少年若進入司法程序是依少年刑事案件程序
 (D) 曝險少年會由檢察官進行調查並對少年提起公訴

題組四：根據內容回答第48至50題

兒童休閒權是孩子的專屬權利，但兒福團體公布的《2025年兒童休閒娛樂現況調查報告》指出，台灣兒少在休閒時間運用上，幾乎每天都「動動手指」進入網路世界，包括觀看網路影片（國小79.6%、國中83.3%）和玩線上遊戲（國小79.6%、國中76.6%），然而現實世界中的全身運動參與度則偏低。其中，國中男生愛玩的遊戲為傳說對決、絕地求生及決勝時刻等，部分遊戲含有暴力、血腥或戀愛交友元素，未符合分級制度中適合學生使用的內容，並曾發生性剝削及誘騙未成年人事件，再加上監管不足，引發社會熱議，顯示分級問題不容忽視。

48. 聯合國《甲》保障兒童權利，明確指出兒童應享有休息、遊戲及適合年齡的娛樂活動，既是基本人權，也是人格發展的基礎保障。我國政府也制定相關法律《乙》提供兒少休閒、娛樂、文化的活動及空間。請問：關於上述甲、乙法規的敘述，下列何者最適當？
- (A) 甲法是《世界人權宣言》
 (B) 甲法保護的對象為18歲以下兒童
 (C) 乙法規定符合該法律的保護措施
 (D) 乙法的目的為規定親權與懲戒權
49. 附圖是我國某項法律授權對遊戲軟體分級制度的相關規定，根據上文及圖中資訊判斷，下列何者正確？



- (A) 該法源是兒童及少年性剝削防制條例
 (B) 國二學生依分級制度適合使用輔15級
 (C) 其分級制度規定符合該法律的福利措施
 (D) 若違反該法律的業者將會負起行政責任
50. 兒少性剝削案件運用網路犯罪佔比約七成，當以線上遊戲「免費限量裝備」做誘餌時，與陌生人加好友的兒少竟有15.9%願提供自己的私密照片進行交換。請問：針對以上敘述，下列何者正確？
- (A) 此處兒少指的是12歲以上未滿18歲
 (B) 兒少自願提供私密照片，所以不會構成違法
 (C) 持有兒少性影像等，將受到刑罰或罰鍰處分
 (D) 對被害兒少會提供保護或轉介少年矯正學校