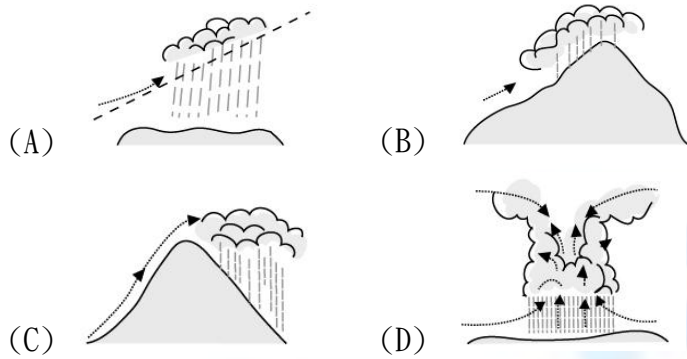
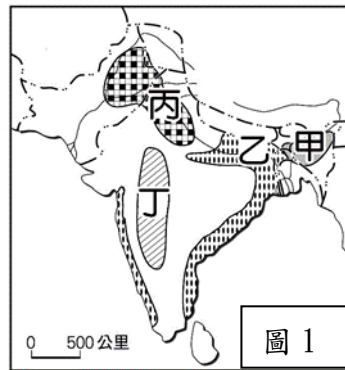


1. 位於印度半島東北部山區的城市—乞拉朋吉，年平均降水量高達 11,777 毫米，曾在 1860 年 8 月至 1861 年 7 月間創下年降雨量 26,470 毫米的驚人紀錄，為全球降雨量最豐沛的地區之一，氣候常年潮濕多雨。造成當地降水如此豐沛的主要降水類型為何？

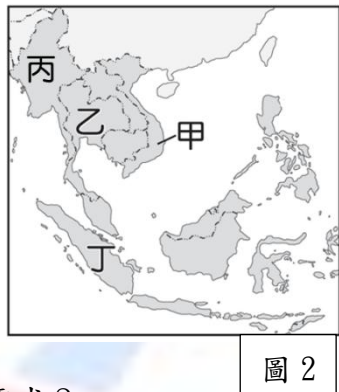


2. 印度為解決糧食短缺問題，於 1960 年代中期推行綠色革命，引進高產量的墨西哥小麥品種，並搭配化肥與農業機械的使用，使小麥產量大為提升，逐步實現糧食自給。圖 1 為南亞重要農作物分布圖，圖中何處最可能為上述農作物的栽種地區？



- (A)甲 (B)乙 (C)丙 (D)丁

3. 每逢伊斯蘭曆的 9 月就是伊斯蘭教一年一度的齋戒月，在此期間穆斯林需於日出至日落間禁食，因此多在清晨食用「封齋飯」(Suhoor) 補充體力。臺灣許多雇主為體恤移工，調整其工作時間，避免中午高溫時段從事勞力工作。圖 2 中哪個國家移工最可能有此需求？



4. 南亞雨季造成多起災害，喜馬拉雅山周圍受到強降雨影響，導致洪水、土石流與山崩等災害。此外，印度 大吉嶺與尼泊爾因連日豪雨河水暴漲，災情慘重。上述連日豪雨的原因是哪個盛行風向從印度洋帶來水氣所造成？
- (A) ↗ (B) ↘ (C) ↖ (D) ↙

5. 近年來，各國積極參與國際合作來提升競爭力，例如：加入中國主導的「一帶一路」倡議，透過大規模基礎建設帶動發展；或是參與美、日、澳等國推動的「印太戰略」，藉此強化區域安全與經濟連結。根據上述區域發展趨勢與各國地理背景判斷，現今南亞和東南亞國家尋求國際合作時最不可能採納何種作法？

- (A) 斯里蘭卡接受中國邀約，成為一帶一路的合作夥伴
 (B) 印度與日本簽訂自由貿易協定，強化區域經濟連結
 (C) 越南加入 RCEP，可擴大經濟合作的規模，帶動產業
 (D) 孟加拉為 ASEAN 自由貿易區成員，對內可降低關稅

6. 「泛亞鐵路」是串連中國與東南亞的重要戰略建設(如圖 3)，其中「中線」自中國 昆明出發，終點為新加坡。目前「中寮鐵路」(昆明至永珍段)已通車，大幅縮短區域運輸時間。然而，當鐵路向南延伸進入泰國北段時，工程單位發現當地自然環境造成施工困難。若僅就自然環境判斷，興建泰國北段高鐵最可能面臨下列哪項自然環境的挑戰？



- (A) 位雲貴高原上，地質古老且堅硬，施工挑戰高
 (B) 山脈與縱谷交錯分布，山高谷深，工程难度大
 (C) 氣候乾燥少雨，河床裸露強風易捲起河谷沙塵
 (D) 熱季時，季風微弱、缺乏水氣，溫度可達 50 度

7. 小景在研究東南亞的城市景觀時，發現馬來西亞的麻六甲古城中，在同一條街上同時出現 17 世紀荷蘭式建築、融合印度風格的清真寺，以及供奉媽祖的華人廟宇。上述這種多元文化並存的現象，與東南亞的哪項地理特徵最相關？

- (A) 位季風亞洲，適合農業發展，吸引不同族群來定居
 (B) 島嶼眾多，各地長期受到地形阻隔而形成多元文化
 (C) 居太平洋與印度洋間，為東、西方海上貿易交會處
 (D) 氣候炎熱多雨，使各地發展出不同宗教信仰與建築

8. 有「印度洋上花環」之稱的馬爾地夫，位在印度 (8.4°N~37.6°N, 68.7°E 至 97.25°E) 西南方，國土有赤道通過。該國是由 26 組珊瑚環礁、約 1192 座島嶼組成，以一島一飯店的獨特度假模式聞名。根據上述資訊判斷，馬爾地夫的位置可能位於下列哪組經緯度範圍？

- (A) 0°~7°N, 70°E~75°E
 (B) 5°N~10°N, 90°E~100°E
 (C) 20°N~30°N, 70°E~80°E
 (D) 10°S~20°S, 60°E~70°W

9. 東南亞各國族群、宗教與生活習慣多元，形成豐富的文化景觀。16、17 世紀歐洲殖民勢力進入後，更加深文化融合與影響。下列四張圖片中何者可說明上述現象？

- (A) 柬埔寨 吳哥窟 (B) 泰國 玉佛寺



- (C) 菲律賓 藍色大教堂 (D) 印尼 清真寺



10. 表 1 為美國、日本與韓國企業將生產據點撤離中國的相關資料。除了中美貿易衝突的影響外，下列何者最可能是企業遷移生產據點的最主要原因？

表 1

國別	企業	概況
美國	孩子寶	全球最大玩具廠，已將大部分生產移出中國，轉到越南與印度。
	Under Armour	將運動服飾生產分散到越南、印尼和菲律賓等國，在中國生產比重逐漸下降。
日本	Sony	2019 年關閉北京順義智慧手機工廠，生產線移到泰國曼谷。
韓國	三星電子	2019 年到 2020 年陸續關閉在中國的智慧手機廠、平板工廠和電腦、電視工廠，主要著重向越南與印度發展。

- (A) 勞力成本 (B) 資源產量
(C) 教育程度 (D) 土地面積
11. 小興在研究南亞地區的社會發展時，發現一份關於「職業選擇與家庭背景」的調查報告。報告指出，雖然法律已規定人人平等，但在部分傳統區域，特定群體仍因「身分標籤」而被限制只能從事清潔或屠宰等工作，且社會地位低落。這種基於宗教傳統所形成的社會階級不平等，與該國歷史上發展出的制度密切相關。上述現象反映出的社會特徵，最可能與哪個國家的宗教信仰有關？
(A) 印度：印度教 (B) 孟加拉：伊斯蘭教
(C) 斯里蘭卡：佛教 (D) 巴基斯坦：伊斯蘭教
12. 東南亞某島嶼自 1950 年代以來，大量砍伐森林，開闢成面積的油棕園或橡膠林，集中種植經濟作物，並透過港口外銷至國際市場，帶來可觀外匯收入。但這些作物在生產過程中多仰賴大量勞力，且產品價格受國際市場影響。根據上述判斷，此種農業活動特徵不包含下列哪項？
(A) 大規模種植單一作物 (B) 投入大量勞力的集約農業
(C) 以滿足國內需求為主 (D) 農民收入不穩，普遍貧窮
13. 圖 4 為東南亞國家分布圖。圖中甲國多山、多島嶼，近年利用其環境優勢積極發展綠色能源，若計畫順利實施，該國不僅能提升能源安全，還能降低碳排放，進一步吸引外資進入再生能源市場。根據圖中資訊判斷，下列何者最不可能為該國所發展的綠色能源及選擇的理由？



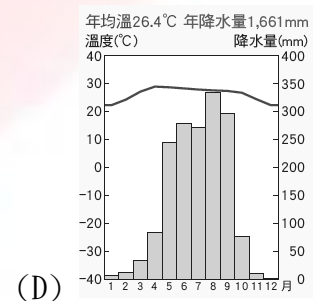
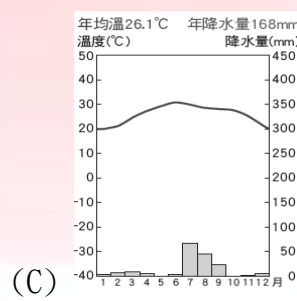
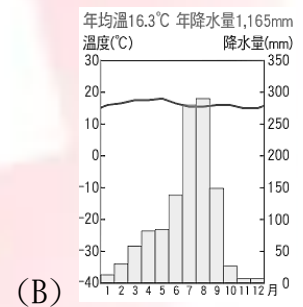
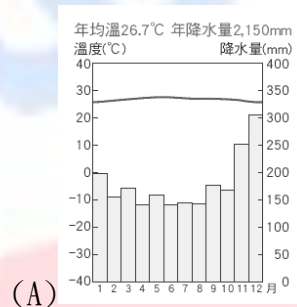
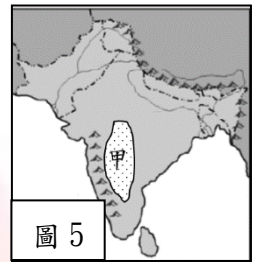
- (A) 水力：雨量豐沛且地勢落差大，水力資源豐富
(B) 風力：冬季時盛行東北季風，風力強勁且穩定
(C) 地熱：位環太平洋火山地震帶，多火山、地熱
(D) 太陽能：位赤道附近日照強烈，全年陽光充足

14. 印度族群與宗教組成多元，其國定假日亦多與宗教相關（如表 2）。我國駐印度代表處人員計畫在新德里舉辦臺灣文化推廣活動，並選擇於國定假日辦理。考量當地氣候特徵，若希望避免熱季高溫炎熱影響活動進行，下列哪個國定假日較不適合舉辦活動？

日期	國定假日
01 月 26 日	印度國慶日
02 月 26 日	濕婆節
05 月 12 日	佛祖誕辰
07 月 06 日	伊斯蘭新年
10 月 20 日	排燈節
12 月 25 日	聖誕節

表 2

- (A) 聖誕節 (B) 印度國慶日
(C) 佛祖誕辰 (D) 伊斯蘭新年
15. 印度是全球重要的棉花生產與出口大國，其種植歷史悠久。主要種植地區之一集中在圖 5 甲地，根據棉花生長特性與當地地理環境判斷，下列何者最可能是甲地適合發展大規模棉花產業的關鍵環境優勢？
(A) 位三角洲，土壤肥沃 (B) 位迎風坡，濕潤多雨
(C) 位背風側，高溫少雨 (D) 鄰近赤道，高溫多雨
16. 寮國首都永珍位於湄公河畔，隔河與泰國相望，是一座以佛教文化、法式殖民建築與緩慢生活節奏聞名的城市。該地深受季風影響，氣候具有明顯季節變化。旅遊資訊指出：當地 11 月至隔年 4 月為乾季，涼爽乾燥；5 月至 10 月為雨季，炎熱多雨，建議穿著輕便夏服、做好防曬及攜帶防蚊液。根據上文描述判斷，該城市的氣候類型與下列哪個氣候圖最為接近？



17. 小八在閱讀全球產業報告時發現，許多跨國企業如 Google、微軟，紛紛在印度的某城市設立研發中心與大型客服基地。報告指出，該城市之所以能成為印度矽谷，並非單純依靠人口多，還跟當地網際網路發達，且位置可與美國資訊科技產業接力工作有關。請問：文中提及的城市最可能為何？
(A) 孟買 (B) 新德里 (C) 加爾各答 (D) 邦加羅爾

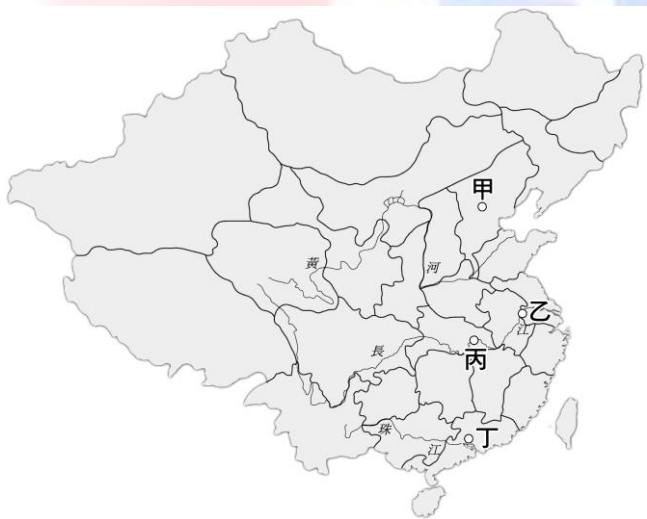
18. 袁世凱是清末民初重要的政治人物。民國初年發行的壹圓銀幣上鑄有袁世凱的頭像，因而被民間稱為「袁大頭」，在當時流通甚廣。由此可見袁世凱在民國初年的政治地位與影響力。根據所學歷史知識判斷，下列敘述，何者**不符合史實**？

- (A) 迫使清帝溥儀退位，結束皇帝制
- (B) 稱帝後，接受「二十一條」要求
- (C) 二次革命失敗後，廢除臨時約法
- (D) 在北京就任總統，迫使政府北遷

19. 某書記載：清廷想收回民間集資興建鐵路的權利，但補償方式因地而異（湖南、湖北全額償還；廣東償還 60%，其餘以政府股票支付；四川僅發股票），引發四川士紳不滿，清廷甚至派湖北軍隊前往四川鎮壓。請問：這種情況最可能成為下列哪一事件的導火線？

- (A) 洪憲帝制
- (B) 二次革命
- (C) 軍閥割據
- (D) 辛亥革命

20. 1917 年以後，中國因政治理念與權力分配問題產生分裂局面。南北各自成立政府，雙方皆宣稱代表國家正統。其後，各派軍閥擁兵自重，彼此征戰，史稱軍閥混戰時期。此一局面不僅使中央權威衰弱，也嚴重影響社會經濟發展。依據上述判斷，當時南北並立的兩個主要政府位於下圖中哪兩處？



- (A) 甲乙
- (B) 甲丙
- (C) 甲丁
- (D) 乙丁

21. 以下為《北京全體學界通告》傳單內文：

現在日本在萬國和會要求吞併青島，管理山東一切權利，就要成功了！他們的外交大勝利了！我們的外交大失敗了！山東大勢一去，就是破壞中國的領土！中國的領土破壞，中國就亡了！所以我們學界今天排列隊伍，到各國公使館前抗議，向世界表示：中國的土地可以征服而不可以斷送！中國人民可以殺戮而不可以低頭！

根據內文，下列哪一項描述正確？

- (A) 文中萬國和會就是巴黎和會
- (B) 此傳單揭開新文化運動序幕
- (C) 學生們宣布成立中國共產黨
- (D) 學生要求北京簽署對德和約

22. 某篇文章的內文如下：

儒家提到的「三綱」是指「君為臣綱、父為子綱、夫為妻綱」，其意思是君為臣的表率，而人民為君主的附屬品，故無獨立自主的人格；父親為兒子的表率，則兒子是父親的附屬品，故無獨立自主的人格；丈夫為妻子的表率，則妻子為丈夫的附屬品，故無獨立自主的人格。中國人之所以缺乏獨立的人格，都是導因於「三綱」的說法。傳統上提到的盡忠、盡孝、守節，皆非讓人擁有獨立人格的道德規範。

由上文中論述的觀點來加以判斷，最接近下列何者的主張？

- (A) 段祺瑞
- (B) 袁世凱
- (C) 陳獨秀
- (D) 康有為

23. 右圖為 20 世紀初中國出版的兒童讀物封面或插圖，內容多以生動圖畫搭配故事敘述，強調引發兒童興趣並符合兒童心理。此類專為兒童設計的讀物開始在中國出現，最可能與下列哪一歷史背景有關？



- (A) 隋唐時期胡漢文化交流
- (B) 宋元時期理學思想興盛
- (C) 明末清初傳教士引進西學
- (D) 清末民初新文化思潮影響

24. 美國學者古德諾曾在文章中指出：「中國數千年來習於君主專制體制，各地學校短缺，多數人民政治知識不足。四年前由專制轉為共和，此種變動過於急遽，恐難有良好結果……中國將來可能因總統繼承問題而釀成禍亂。若不能及時制止，甚至可能危及中國的獨立。因此，中國若採行君主制度，或許較共和制度更為適合。」根據上述內容判斷，此一論點最可能被下列何人引用，以作為其政治主張的理論依據？

- (A) 孫中山
- (B) 袁世凱
- (C) 梁啟超
- (D) 段祺瑞

25. 某旅遊手冊介紹一座具有德國風格的建築，並提到該建築為德國租借地時期所興建的總督官邸。第一次世界大戰期間，日本軍隊攻占此地，並接收原本由德國掌控的鐵路與港灣等權益。戰後，這些權益的歸屬問題更在國際會議中引發中國學生的大規模抗議運動。根據上述內容判斷，該旅遊手冊最可能介紹下圖中的何地？



- (A) 甲
- (B) 乙
- (C) 丙
- (D) 丁

26. 根據下列三則歷史資料內容，判斷事件出現的先後次序為何？

資料一：某政治人物死後，中國政局進入新階段，軍閥勢力擴張。部分軍閥控制中央政府，部分掌握數省以上，列強支持使勢力進一步擴張。

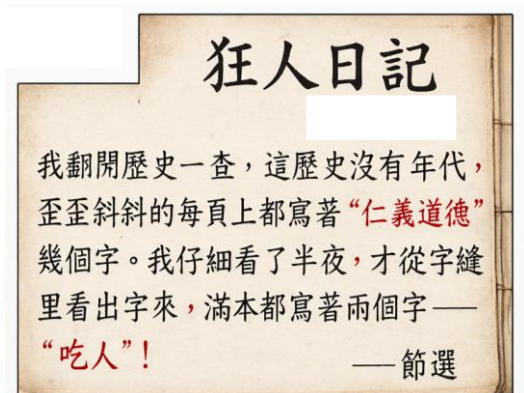
資料二：該政治人物不滿足於總統地位，開始策畫帝制，命人宣傳中國不應推行共和，並偽造民意，發動各種團體的「勸進」活動。最終國民大會一千九百九十三名代表一致贊成君主立憲，他宣告接受帝制。

資料三：該政治人物獲選臨時大總統後，努力鞏固權力，對外謀求列強承認，對內免除國民黨籍地方首長職務，並涉及暗殺宋教仁，引發國民黨討伐，但因軍力不足，討伐行動未能成功。

- (A) 資料三→資料二→資料一
(B) 資料二→資料一→資料三
(C) 資料一→資料三→資料二
(D) 資料二→資料三→資料一
27. 在 20 世紀初期，隨著西方思想傳入中國，一些知識分子透過報刊、學校與社會活動，宣傳新的觀念。他們主張以理性檢視傳統文化，批評舊有禮教對個人思想與生活的束縛，並提倡男女平等與個人自由。部分青年因此反對「父母之命、媒妁之言」的婚姻制度，主張婚姻應由個人自主決定。上述現象最能反映當時中國社會受到哪一股思想潮流的影響？
(A) 提倡民主科學並批判傳統禮教
(B) 倡導民族覺醒與追求國家獨立
(C) 實行群眾運動與主張社會革命
(D) 強調倫理規範與維護家庭秩序
28. 某雜誌刊出文章如下：「本誌同志本來無罪，只因擁護『德先生』、『賽先生』，才犯了這幾條滔天大罪。我們認定只有這兩位先生，可以救治中國政治、道德、學術、思想上一切的黑暗。若因擁護這兩位先生，一切政府的壓迫，社會的攻擊笑罵，就算斷頭流血，也不推辭！」根據上述內容，下列敘述何者**錯誤**？
(A) 此雜誌主張思想革新
(B) 此雜誌批判儒家思想
(C) 創辦人為蔡元培先生
(D) 兩先生代表民主科學
29. 西元 1911 年 12 月 3 日，各省代表會議通過《中華民國臨時政府組織大綱》，正式建立總統制共和政府。會議在選擇臨時政府所在地時，必須兼顧：
• 革命力量是否集中，能保障政府安全
• 城市交通是否便利，便於聯絡各省代表
• 政治與歷史象徵意義，彰顯新政權正統性
下列哪一城市最符合上述條件，最終成為臨時政府的所在地？
(A) 北京 (B) 南京
(C) 武昌 (D) 廣州

30. 光緒二十年，清帝國在一場戰爭中慘敗，國家信心受到嚴重打擊。受此刺激，有一位政治人物開始號召群眾，成立革命團體，推翻滿清。日後，當有人要求他卸任時，他曾提出：「我若同意卸任，那必須將體制由總統制改為內閣制，這樣才能透過內閣來牽制總統，使內閣掌握實際權力，此外，必須要求臨時政府設在南京……」請問：文中這位政治人物最可能是下列何人？
(A) 段祺瑞 (B) 袁世凱
(C) 康有為 (D) 孫中山

31. 下圖為 1918 年中國出版書籍節選。請依圖文內容判斷，下列敘述何者**錯誤**？



- (A) 屬於民初新文化運動期間的代表作
(B) 此書被視為白話文創作的重要範例
(C) 仍採用文言文，沒有新式標點符號
(D) 作者為魯迅，內容是批判封建禮教

題組：依據下文回答 32~34 題

1919 年，《凡爾賽和約》將德國在山東的權益轉讓給日本，引發中國學生與民眾對國家主權受侵犯的強烈不滿。學生在北京及其他城市發起示威抗議，抵制列強的不公平安排。這股抗議浪潮逐漸擴展到全國，引起社會各界關注。

同時，青年學生與婦女也開始參與文化與社會改革運動，倡導性別平等、教育普及與思想自由，對當時的社會與文化產生深遠影響。

32. 根據背景描述，1919 年中國學生與民眾發起的大規模抗議運動，主要目的是？
(A) 抗議日本侵占山東
(B) 推翻地方軍閥控制
(C) 爭取皇帝恢復王權
(D) 維護傳統禮教制度
33. 在此抗議浪潮下，下列哪一個口號與此運動**無關**？
(A) 「外爭主權，內除國賊」
(B) 「廢除二十一條要求」
(C) 「還我山東，還我青島」
(D) 「仇洋反教，扶清滅洋」
34. 關於這股社會改革與文化運動的性質，下列敘述何者**正確**？
(A) 學生運動完全排斥女性參與活動
(B) 社會運動只限官員與精英參與
(C) 學生與婦女主張婚姻自主與教育平權
(D) 社會運動僅在農村，未擴散到各城市

35. 「♪ Play the whole world in Mono ♪」韓國人氣女團 idle 3 月 7 日在臺北大巨蛋開啟巡演，與 3 萬 6 千名 NEVERLAND 齊聚一堂，但也衍生嚴重黃牛與詐騙爭議，網路出現假冒賣家，利用「面交」為誘餌降戒心，隨後改以不明網址進行假匯款，甚至偽造門票使買家收到看似真實但無法進場的門票。根據上述新聞內容，請判斷下列選項敘述何者最為適當？
- (A) 購買門票採用「面交」並不符合契約生效之要件
(B) 門票交易是雙方應互相履行權利義務之契約關係
(C) 門票交易應將登記資訊公開明示，避免粉絲受騙
(D) 黃牛將票價提高後賣出，屬於契約自由不應限制
36. 台北市中山商圈一家甜甜圈店近日捲入「厭童」爭議，一名母親帶著 6 歲孩子前往外帶消費，即使表明點完就走、孩子也全程安靜，仍被店家要求孩童不得踏進門內，必須在外等候，引發當事人不滿發文控訴，且店家強硬回應負評的態度，更讓爭議持續擴大。請根據上述新聞，下列選項解讀何者最為適當？
- (A) 基於行為能力，店家可主張不和該兒童簽訂契約
(B) 基於禁止權利濫用，家長得強硬要求該兒童入內
(C) 基於契約自由，店家得主張與家長解除買賣契約
(D) 基於契約效力，店家也應詢問該兒童之意思表示
37. 北市文山區的景美夜市，發生有民眾過馬路不守交通規則遭罰，他將警察跟罰單都 PO 網抱怨：「警察開單的同時旁邊有一堆違規的人！他都看不見嗎！為什麼只罰我」狂酸討拍，結果慘遭網友抨擊「去了解一下什麼叫『平等』吧，平等權想要保護的是什麼？去多唸點書了解一下」根據上述新聞內容，判斷下列選項何者敘述符合憲法中平等權之概念？
- (A) 平等權應普遍適用於人民各項行為，不得有差別
(B) 不得基於他人未被罰向警方主張不罰其違規行為
(C) 警察若不罰其他違規者，也應平等對待此文原 PO
(D) 原 PO 所受罰單應由當場所有人共同承擔才公平
38. 姊姊今年剛滿 20 歲，因為對政治事務有興趣，於是加入某政黨，並打算在下次選舉時要參加政黨所舉辦的造勢晚會。上述畫線的事項，姊姊依序是在行使憲法中的什麼權利？
- (A) 參政權、自由權 (B) 自由權、自由權
(C) 參政權、參政權 (D) 自由權、受益權
39. 王信福等 37 名死囚主張死刑違反憲法平等權、生存權，故聲請法規範憲法審查，經憲法法庭審理，做出「113 年憲判字第 8 號」判決，結果認為死刑合憲，並無違反憲法保障人民生命權之精神，但要求刑事程序應符合憲法最嚴格之程序要求。針對上述憲法法庭對於死刑合憲之敘述，請依據憲法特性判斷下列選項之解讀何者最為適當？
- (A) 最高性：判決得確保法律符合憲法最高指導原則
(B) 原則性：該判決彈性解釋死刑適用，以順應民意
(C) 普遍性：相關法規應遵照判決，普遍保障基本權
(D) 固定性：故死刑制度一經判決確認，即不應修改
40. 某高中本於尊重多元性別氣質與學生自主性，透過校務會議修訂學校服儀辦法，將原先對於校內學生之服裝規定放寬，開放生理男性同學得著裙子，卻引發家長團體反彈，認為該校教壞小孩，揚言學校帶頭挑戰社會傳統價值，針對上述新聞內容，請判斷下列選項何者敘述最為適當？
- (A) 憲法保障人身自由，學校規範符合憲法精神
(B) 家長反對學校的措施，要求改善為其訴願權
(C) 校方修改服儀相關辦法可保障學生表現自由
(D) 憲法作為根本大法應積極保障傳統社會價值
41. 「我的眼神給出去了，我的身體呈現一個 X 型，這時候你會發現…是不是靈動啦！」中國網紅講師周媛販售線上課程主打女性如何運用肢體眼神傳遞魅力，但網友實際購買後，發現課程並非單純的形象管理訓練，而是包含大量性暗示對話指導，若該網友消費後考慮退費，依據上述內容，下列選項何者最為適當？
- (A) 實際產品與契約內容不符，屬債務不履行行為
(B) 販賣此類產品均違反善良風俗，此類契約無效
(C) 基於契約自由，消費者已選擇購買，不可退貨
(D) 線上課程無法確認雙方意思表示，故契約無效
42. 隨著立法院新會期開議，《青年基本法》成為少數朝野政黨都認為應優先審查的法案之一。然而，在野黨立委提案將 2022 年修憲未通過的「18 歲公民權」藉納入《青年基本法》的方式實現，但此舉卻遭受質疑，請判斷下列選項何者為在野黨立委之提案遭受質疑之主因？
- (A) 因其欲納入之法規屬於命令階層，無民意基礎
(B) 因憲法未授權民意機關解釋憲法，故此舉無效
(C) 因其提出之法案牴觸憲法最高性，通過亦無效
(D) 因其牴觸憲法固定性，此法案將動搖憲法精神

第 43 題至第 45 題為題組題

【釋字第 784 號】

「本於憲法第 16 條保障人民(甲)權之目的，各級學校學生若認為其權利因學校之管教、教育措施而遭受侵害時，即使非屬退學處分，亦得按相關措施之性質，向行政法院提出救濟，無特別限制之必要。」

該解釋文一出，雖然獲教育部公開支持，認為更能保障學生權利，但各級學校教師則意見不一，有教師投書提出疑慮「以後學生不服管教就變成侵害權利？」更有投書抨擊該號釋字，會讓老師將來不知該怎麼管學生。

43. 針對上文之(甲)權，下列何者選項之敘述最為適當？

- (A) 自由權，學生於校內應具行為上之自由不得受干涉
- (B) 平等權，學生在校屬處境不利群體，應有差別待遇
- (C) 訴願權，學生應可要求校方變更其不當或不法處分
- (D) 訴訟權，學生權益受不法侵害，得尋求司法權介入

44. 根據上文內容，下列選項之敘述何者最為適當？

- (A) 教師不具強制力，對於學生不會有侵害權利之行為
- (B) 教師抨擊解釋文限制其工作權，國家不得過度干涉
- (C) 教師質疑是否變相導致權利濫用，使其權益受侵害
- (D) 教師不認同解釋文之內容，因其可能妨害社會秩序

45. 依釋字第 784 號之法律地位，下列何者解讀最為適當？

- (A) 其應屬行政命令，規範學校此類行政單位之施政
- (B) 由教育部依立法院授權訂定，以此督導下級單位
- (C) 因其涉及人民基本權，應由國會訂定以符合民意
- (D) 解釋之政府單位組成應交由國會通過人事同意案

第 46 題至第 47 題為題組題

一大塊豬肋排骨上頭，竟然插著一片長約 1 公分的銳利刀片！有民眾日前到北市內湖某賣場，購買豬腹排切塊回家煮湯，家中女兒連吃 2 塊排骨都發現裡頭藏有刀片，讓民眾氣得 po 網，無法想像小孩如果把刀片排骨吃入口會發生什麼事，消費者依據民法要求該賣場須(甲)以負起民事責任。

46. 民眾到賣場買豬腹排和下列何案例權利義務關係相同？

- (A) 小景與男朋友登記結婚成為配偶
- (B) 小興家里訂閱了一年的英語雜誌
- (C) 小國繼承父母留下的房屋與土地
- (D) 小中不小心摔壞同學手機需賠償

47. (甲) 不可能是下列哪個選項？

- (A) 減少價金 (B) 損害賠償
- (C) 解除契約 (D) 消滅時效

第 48 題至第 50 題為題組題

【臺北市立景興國民中學學生攜帶手機到校管理辦法】

目的：為兼顧學生在校專心學習及課後與家長聯繫，特訂定此管理辦法。

申請方式：攜帶手機到校學生需填寫「臺北市立景興國民中學學生攜帶手機」申請書，經家長和導師簽章後，由學務處生教組彙整列管。

(一) 經申請後，在 8:20~8:25 分或 9:10~9:20 分交付學務處暫存保管，放學後離開學校才能開機使用。

(三) 攜帶手機到校，卻未於規定時間交付學務處暫存保管或未自行送至學務處者，經老師發現並且手機關機且未違規使用者，得由學務處生教組暫為保管並通知家長領回

48. 若景興國中八年級某同學用零用錢去購買一台 iPhone17，購買後被家長反對要求店家退貨，針對上述情境，下列敘述何者最為適當？

- (A) 該買賣契約本就無法律效力，要求退貨屬合理要求
- (B) 若手機已被同學使用，店家得向買方要求損害賠償
- (C) 同學應由家長陪同購買，方能使買賣契約具有效力
- (D) 家長應尊重其與店家締結契約之自由，不得限制之

49. 針對景興國中管理學生手機之法律相關問題，下列何者選項之說明最為適當？

- (A) 校方可基於課堂秩序與教育目的，去合理限制手機
- (B) 本於憲法精神，不得限制學生攜帶或使用私人財產
- (C) 若經家長事前同意，學生得於學校內自行使用手機
- (D) 基於學生尚無法享受權利，故課予繳交手機之義務

50. 若學校於保管過程因過失導致手機損壞，以下選項之敘述何者最為適當？

- (A) 保管行為並非買賣契約，校方無須負擔保管責任
- (B) 學生收受賠償金屬單純獲利行為，無須家長同意
- (C) 校方過失行為侵害學生之受益權，須負賠償責任
- (D) 只要發生損壞，校方均須賠償全新同款項之手機