

1. 圖1為臺灣人口年齡組成及推估圖。由圖中的資訊推論，民國80年到民國120年的扶養比將呈現何種變化趨勢？  
 (A)逐年上升 (B)逐年下降  
 (C)先降後升 (D)先升後降

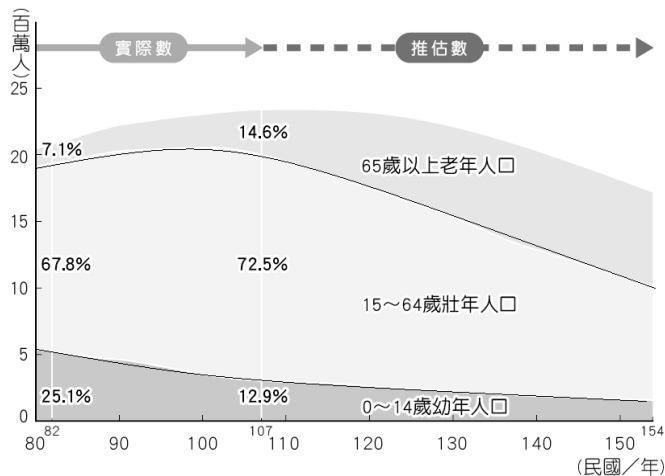


圖 1

2. 圖2是臺北市民國100~107年的人口成長情形，根據圖中資料，我們可以合理做出何種分析描述？

- (A)死亡率逐年下降 (B)自然增加率皆為正值  
 (C)人口總數每年都減少 (D)移入人口持續大於移出

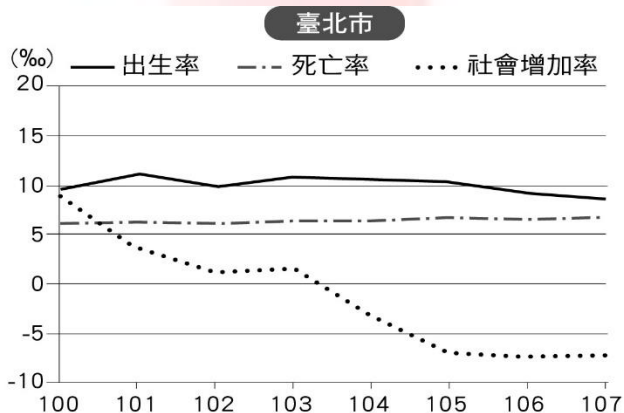


圖 2

3. 若小君想要了解臺北市文山區的人口密度情況，她必須找出下列哪些資料加以處理運用？

- (A)文山區總人口數、文山區總面積  
 (B)臺北市總人口數、文山區總面積  
 (C)文山區的出生率、臺北市的總面積  
 (D)文山區的移入率、文山區的移出率

4. 圖3為民國107年臺灣地區人口分布圖，由圖中可以推論出下列何項訊息？

- (A)臺灣的人力資源豐富 (B)人口分布受地形影響  
 (C)東部的發展早於西部 (D)臺北市人口多於高雄市

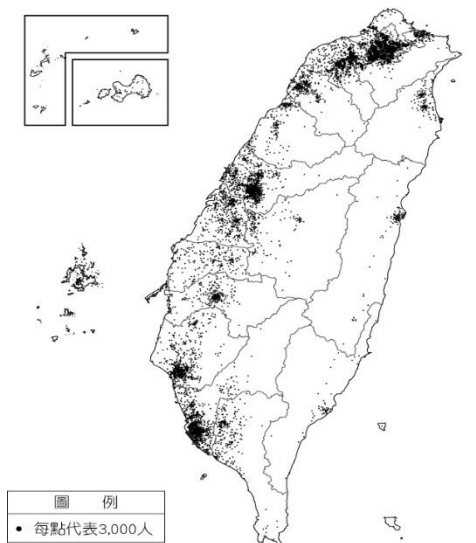


圖 3

5. 新冠肺炎疫情爆發後，基於人道醫療需求，各國紛紛派機撤出滯留中國的僑民，其中滯留在中國的第二批臺灣公民共361人，已在三月十三日凌晨搭乘包機返回臺灣。依據人口遷移的因素來說，下列敘述何者正確？

- (A)撤僑行為屬於國內移動  
 (B)僑民歸國屬於自然增加  
 (C)臺灣醫療資源豐富，對僑民來說是一種拉力  
 (D)中國疫情嚴重，對各國僑民來說是一種拉力

6. 表1表示人口遷移型態依時、空差異的整理表格，圖中丁應填上下列何者？

- (A)永久 (B)暫時 (C)國內 (D)國際

空間 時間	甲遷移	乙遷移
丙遷移	臺南市的居民到臺北市求學。	印尼的居民到臺灣工作。
丁遷移	澎湖縣的居民因結婚移居臺中市。	臺灣的居民取得美國國籍，舉家移民。

表 1

7. 小華想要繪製2018年臺灣的人口金字塔圖，下列哪個繪製步驟的描述需要修正？

- (甲)蒐集臺灣性別和年齡百分比資料  
 (乙)橫座標表示百分比，左側代表女性，右側代表男性  
 (丙)縱座標代表年齡，每隔5歲一組，畫出長條圖  
 (丁)在人口金字塔上畫出代表15歲及65歲的橫線  
 (A)甲 (B)乙 (C)丙 (D)丁

8. 「內政部公布民國106年統計資料顯示，目前臺灣女性人口為1,183萬人，男性人口1,171萬餘人，總人口性比例持續下降，已降至98.9%，臺灣新生兒性別比則為106。」下列何者可能是造成上述現象的原因？

- (A)女性死亡率較男性高  
 (B)移入人口以男性為主  
 (C)傳統重男輕女觀念消失  
 (D)男性平均壽命較女性短

9. 圖5為臺灣近百年來的人口變化圖。圖中的三條曲線分別代表不同的人口意義，在不考慮社會增加率的前提下，根據圖中資料判斷，下列分析何者正確？

- (A)2010年出生人數達300萬人  
 (B)日治時期死亡率降至6%  
 (C)近二十年因出生率下降人口成長趨緩  
 (D)近二十年因少子化造成人口總數減少

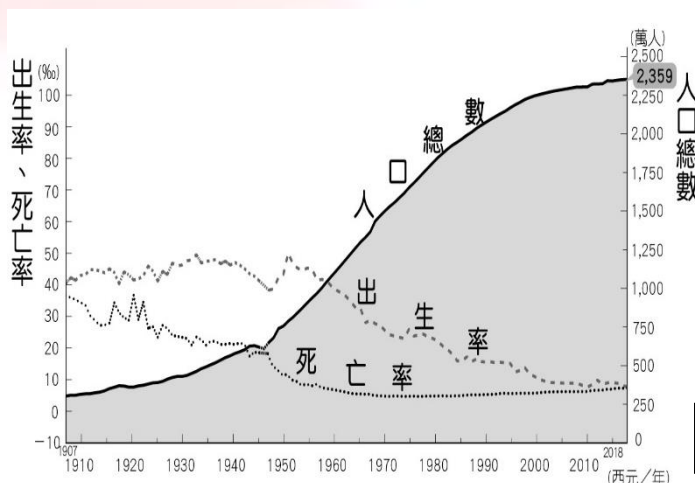


圖 5

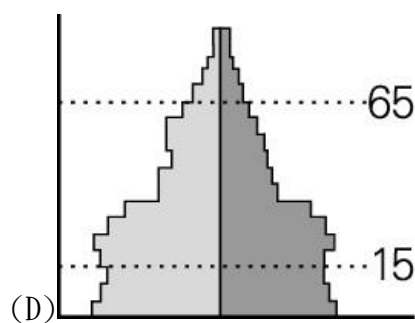
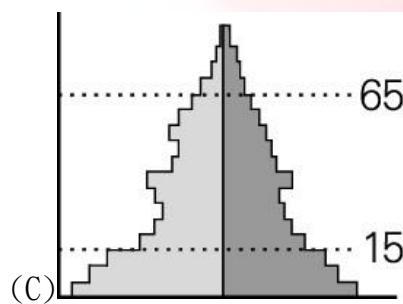
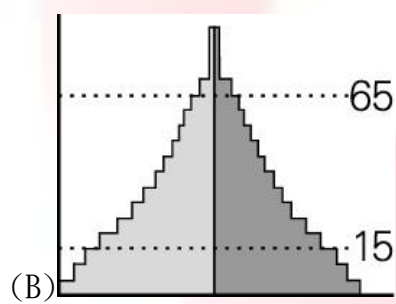
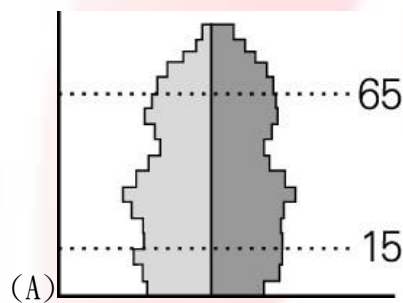
10. 屏東萬巒的萬金聖母堂，除了每年聖誕節舉辦光雕藝術展演活動吸引遊客外，更有結合民俗廟會的聖母遶境活動。請問：聖母遶境活動展現出臺灣的哪項特色？  
 (A)人口密集 (B)孤立島嶼  
 (C)人口老化 (D)文化融合

11. 「西元1988年，因時下年輕人對母語及本土認同愈來愈淡，教育部推行『還我母語運動』，於是小學校園有了一週一堂的鄉土語言課程。2019年教育部推行新課綱，新增□語文課程，包含越南、泰國、印尼、馬來西亞、緬甸、柬埔寨及菲律賓等七國，讓學生們從小就認識多元族群語言與文化，引領我國邁向多元族群文化的國家。」前述□語是指何種語言？  
 (A)台語 (B)客家語 (C)原住民語 (D)新住民語

※請根據下文回答12~13題：

臺灣人口在少子化加上高齡化的雙重衝擊下，未來老年人口幾乎就要接近勞動人口。為了因應人口少子化及老年化的趨勢，首先需要鼓勵生育，創造樂於生育的環境；另外，面對勞動市場人力短缺及老化問題，則需要提升勞動生產力，並開發高齡勞動力。

12. 根據上文判斷，臺灣地區的人口金字塔最接近下列哪種類型？



13. 依據文章所述，政府若要擬定人口政策來改善臺灣所面臨的人口問題，下列哪個政策較不恰當？  
 (A)發放育兒補助津貼 (B)提供老人長照資源  
 (C)鼓勵外籍移工來臺 (D)降低勞工退休年齡

※表2為臺灣四大都市107年人口資料，請透過數據回答14-15題：

都市	臺北市	新北市	桃園市	高雄市
人口總數(萬人)	約267萬	約400萬	約222萬	約273萬
性別比	91.27	95.80	98.86	97.89
自然增加率(%)	1.85	1.25	4.42	-0.5
社會增加率(%)	-7.34	1.01	10.48	-0.72

表 2

14. 由表2判斷，請問四個都市之中，何者「男性」人口數可能是四個都市之中最多的？  
 (A)臺北市 (B)新北市 (C)桃園市 (D)高雄市
15. 表2哪個都市人口成長率最高？  
 (A)臺北市 (B)新北市 (C)桃園市 (D)高雄市

※請根據下文回答16~17題：

自從1990年代中國及東南亞配偶大量進入臺灣以來，跨國婚姻普及化已將近三十年，回顧過去，那些跨國移民還被稱作「外籍新娘」的年代，當時的她們還時常遭受歧視、或被貼上污名化標籤，許多悲劇故事的主角都是新移民。然而，隨著社會變遷及漫長的權利爭取，新移民漸漸地走出了自己的一條路，現在的她們可以是各國法律通譯的專業人才，也是臺灣和國際接軌的橋樑，更是臺灣多元文化不可或缺的重要關鍵。

根據內政部移民署的統計資料，截至2018年9月底，臺灣新移民總人數已達54萬人，接近臺灣原住民人口數55萬。近年來內政部統計臺灣生育率年年下降，許多學校因少子化招收不到學生的狀況更是時有耳聞，新住民二代不只有望成為南向政策推廣的力量，也補足了臺灣少子化的缺口。

16. 隨著全球化發展，新移民也可能成為部分國家解決少子化的方式之一。開放新住民移入可能對臺灣造成的變化和影響，較不包含下列哪項？  
 (A)提升自然增加率 (B)提高社會增加率  
 (C)提高男女性別比 (D)帶來多元的文化
17. 新住民人口數已接近原住民，成為臺灣重要的族群之一，面對這樣的趨勢，政府該如何制定多元族群政策，以符合現代社會所需？  
 (A)舉辦國際移民日嘉年華會，促進文化交流和理解  
 (B)保障原住民族的生存發展，限制新住民申請入籍  
 (C)鼓勵原住民遷移至都市居住，以提升其生活品質  
 (D)保障各族群的生活領域，各自劃設獨立的生活圈