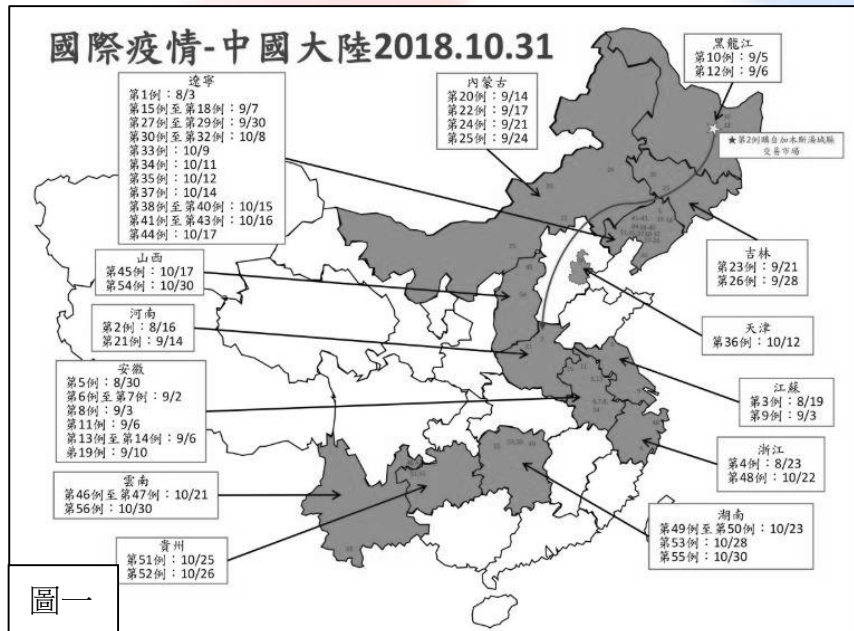
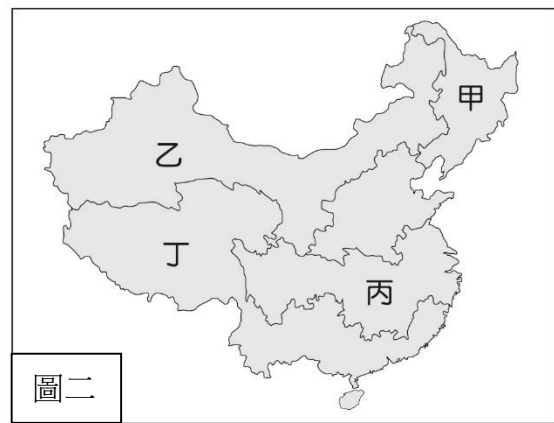


- 世界上最長的高速公路「京新高速」，公路總長2,768公里，全線從北京出發，2天就能抵達新疆。其中內蒙古路段是世界上穿越沙漠最長的公路，若要維持此公路暢行，須加強什麼樣的環境保護對策？
(A)退田還湖政策 (B)南水北調工程
(C)三峽水利工程 (D)三北防護林工程
- 中國近年來積極實施「南水北調」工程，以解決北部地區的水資源缺乏問題，下列何者不是導致此問題的主要因素？
(A)人口總數眾多 (B)產業用水需求大
(C)降雨季節不均 (D)高山融雪水減少
- 中國約有1億公頃（臺灣面積約360萬公頃）鹽鹼地，限制了農業生產和植被生長，傳統上通過引水灌溉沖洗降低鹽度的方法，無法保障作物產量。日前媒體報導鹽鹼土改良劑「脫鹼1號」研發成功，若此技術大規模推廣，將有助於改善中國何處的土地利用困境？
(A)青藏高原 (B)蒙新地區 (C)黃土高原 (D)珠江三角洲
- 圖一為中國的「非洲豬瘟」疫區分布圖，由圖觀察發現2018年出現的疫區，以何種畜牧方式範圍最大？
(A)欄牧 (B)水平游牧 (C)放牧 (D)垂直游牧

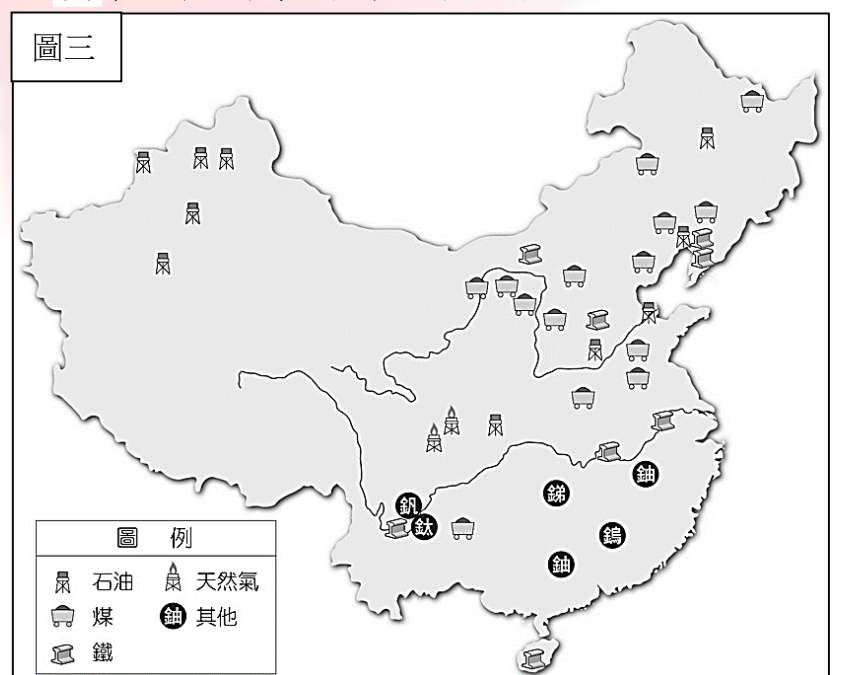


- 「我種我的田，跟長江發洪水有什麼關係？」江西農民接受媒體採訪時疑惑地反問。居民年復一年地在田裏收割水稻、在自家魚塘圍養魚群時，沒人想到在他們安家落戶前，這裏曾是鄱陽湖的一部分。上文突顯何種土地利用方式的盲點？
(A)濫墾濫牧 (B)圍湖造田 (C)過度灌溉 (D)築壩攔水
- 中國學者夏訓誠表示，1959年時位於塔里木盆地的羅布泊面達5,350平方公里，到了1962年整個湖完全乾枯。導因於1958年後的開發政策，塔里木河上游地區大面積開墾，流入羅布泊的河水驟減。除上述人為因素加速惡化外，下列何者也是影響此環境發展的關鍵因素？
(A)緯度較高年溫差大 (B)地勢低窪日溫差大
(C)蒸發量大於降水量 (D)降水量多於蒸發量
- 中美貿易戰的原因之一是智慧財產權問題。美國指責中國是「作弊選手」，中國則指責美國是「貿易霸凌」。所謂「作弊選手」，是指中國用一部分市場換取國外的先進技術，顯示出中國善用何種發展優勢，加速中國經濟發展？
(A)工資低廉 (B)人口眾多
(C)土地廣大 (D)技術先進

- 中國在哈爾濱舉辦2019年「黑龍江國際大米節」，此活動是來評選各國稻米的品質，金獎由日本魚沼市的越光米取得，銀獎由黑龍江省「吉源香1號」、甘肅寧夏回族自治區「寧粳43」和吉林農業大學「吉農大531」共列第二名。中國北方稻米表現亮眼，與下列何項因素關係最密切？
(A)耕作技術的改善 (B)市場需求的擴大
(C)交通系統的改善 (D)全球氣候的變遷
- 中國自20世紀末，煤價隨經濟飛漲，煤炭儲量豐富的山西，數不清財富的「煤老闆」陸續誕生。然各種替代能源出現及燒煤導致的京、津環境問題，使得煤礦生產困難，礦坑賣價跟著暴跌，煤老闆淡出舞台。上述環境問題最可能為何？
(A)凍土 (B)霾害 (C)土地沙漠化 (D)土壤鹽鹼化
- 凍土形成條件是低溫造成土壤跟岩石因地下水結冰而凍結。依冰封時間長短，分為短期、季節性及永久凍土，凍結時間至少兩年以上。若地理學者要研究中國永久凍土層，應前往圖二哪個區域較能大範圍進行相關研究？
(A)甲 (B)乙 (C)丙 (D)丁

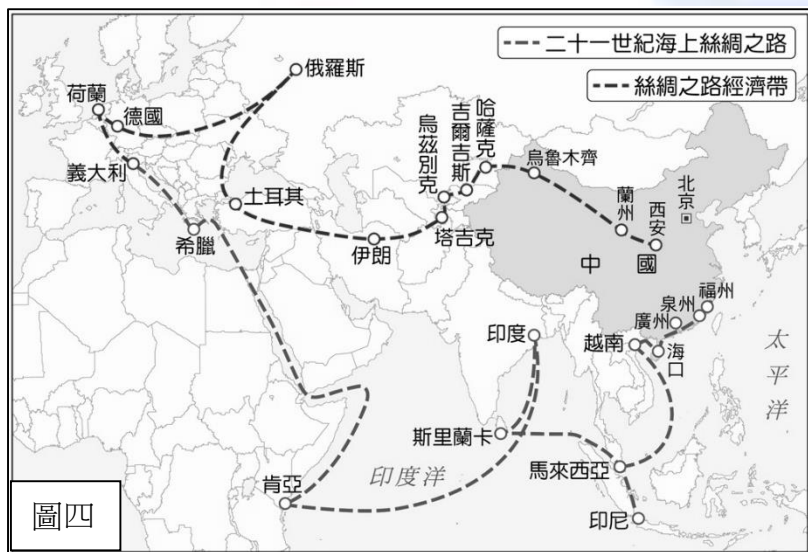


- 長江三角洲的農作物一年能收成兩次，而珠江三角洲的農作物一年則可收穫三次。造成此次數差異的主因為何？
(A)珠江三角洲緯度較低 (B)長江三角洲雨量較豐沛
(C)珠江三角洲地勢較低 (D)長江三角洲土壤較貧脊
- 圖三為中國礦產分布圖，根據該圖資訊可以推測出中國的何項產業發展特色？
(A)西部因石油多，為中國工業最發達區
(B)南部因礦產種類多，適合發展輕工業
(C)北部適合發展重工業的原料、動力充足
(D)東南部沿海有大量原物料足以提供出口



13. 某新聞標題為「水炸彈懸在頭，印度憤怒」，敘述中國與印度兩個國家間的水資源問題，中國欲興建水力發電廠與三個水壩，而印度深怕水壩建立後，中國會不定時開放水閘門，印度可能因此成為沼澤之國。根據此報導內容較可能推測出下列何種現象描述？
- (A) 印度未來必能控制河流水量分配
 (B) 此河流依序先流經印度再到中國
 (C) 中國地處河流的上游處掌控水權
 (D) 印度地勢較低而利於蓄水源發電

■ 圖四為中國「一帶一路」示意圖，是中國自2015年起推動的政策，「一帶」指的是陸上絲綢之路經濟帶，主要是希望帶動中國某個經濟帶的發展，拉近區域的發展差距；「一路」則是21世紀海上絲綢之路，從海上與東南亞、南亞、西亞、非洲等地區建立合作關係。回答第14~15題：



14. 文中說「陸上絲綢之路經濟帶」是希望帶動中國哪個地區的經濟發展？
- (A) 中部經濟帶
 (B) 東部經濟帶
 (C) 西部經濟帶
 (D) 珠三角經濟圈
15. 下列何者較可能是中國為了落實「陸上絲綢之路經濟帶」的發展，首要須落實的主要發展策略？
- (A) 積極規畫及建設各種的交通運輸路線
 (B) 利用豐沛廉價勞力對外招商吸引設廠
 (C) 輸出中國內陸能源礦產前往歐洲各國
 (D) 與馬來西亞、越南等國建立貿易關係

■ 表一為2018年中國部份地區最低月工資表，通常經濟越發達地區，最低月工資則越高。請回答第16~17題：

16. 根據表中的數據資料，如要獲取最高的薪資保障(最低月工資)工作，他應該前往下列何處謀職？
- (A) 環渤海經濟圈
 (B) 長三角經濟圈
 (C) 珠三角經濟圈
 (D) 喀什經濟特區
17. 表中的薪資較高地區大多集中於某個經濟帶，顯示這個經濟帶發展較好，下列何者不是此經濟帶經濟發展的可利因素？
- (A) 海運較便利 (B) 改革開放早
 (C) 勞力較充足 (D) 礦產較豐富

地區	最低月工資(人民幣)
上海	2420
北京	2120
廣東	2100
天津	2050
浙江	2010
江蘇	1890
新疆	1820
陝西	1680
吉林	1780
內蒙古	1640

1 人民幣
約等於
4.3 臺幣