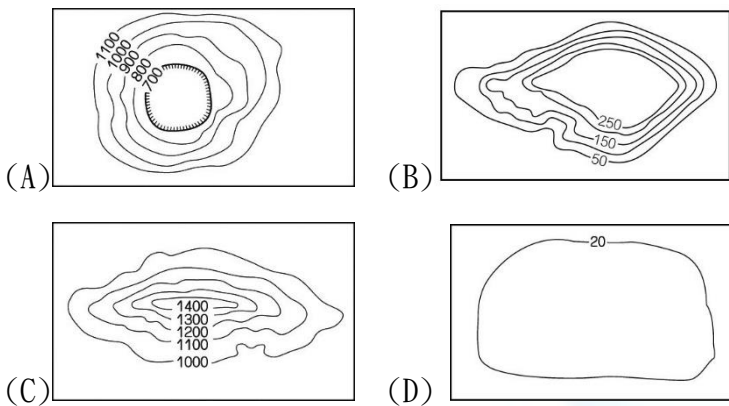


1. 彰化、雲林等中部的縣市有「臺灣穀倉」之稱，主要原因和當地何種地形比例偏高有關？



2. 「臺灣位於歐亞板塊和菲律賓海板塊交界處，這兩個板塊相互碰撞推擠，形成臺灣島。」上述的地形作用與下列哪種地形作用力性質相同？

- (A) 颱風侵襲 (B) 火山爆發  
(C) 河流切割 (D) 海浪侵蝕

3. 圖1為鼻頭角步道等高線地形圖，阿光計畫到此地健行，規劃自甲沿乙、丙、丁再回到甲地的環狀路線。圖1中哪段路程是上坡路段，使阿光行走特別費力？

- (A) 甲→乙 (B) 乙→丙  
(C) 丙→丁 (D) 丁→甲

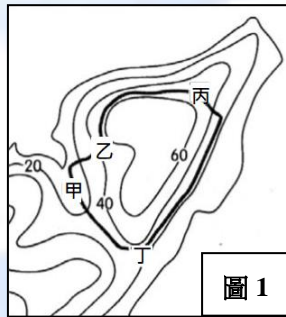


圖 1

4. 南投地貌的複雜性，造就了一個縣市能產出「八大茶區」的景觀，有海拔2000公尺的大禹嶺茶區，海拔1000多公尺的杉林溪茶區，海拔600~800公尺的凍頂茶區，也有低海拔的名間茶區。此地區受到人為開發的影響，最有可能出現的下列何種地形災害？

- (A) 淹水 (B) 地震 (C) 土石流 (D) 地層下陷

5. 地理老師發下「臺灣地形分層設色圖」的學習單(圖2)請同學著色。阿光先依照海拔高度由低到高，設計了由淺到深的顏色對應，再開始進行分區著色。請問圖2中哪個區域的顏色應該最深？

- (A) 甲 (B) 乙  
(C) 丙 (D) 丁

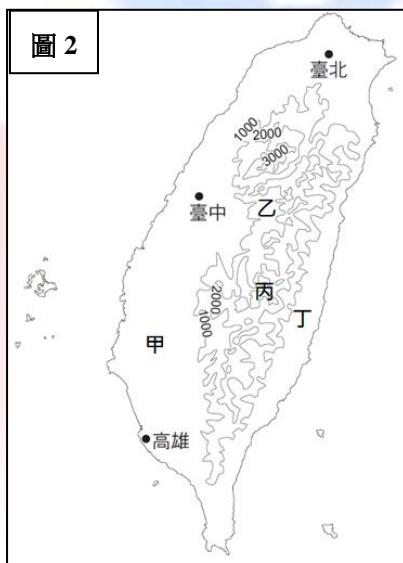


圖 2

6. 宜蘭南方澳大橋在2019年10月1日早上9點半發

生斷裂事件，造成嚴重的災情，有關橋梁斷裂倒塌原因有待釐清。圖3為南方澳周圍衛星影像圖，請根據圖中資訊判斷，當地可能會出現下列哪種產業活動？


- (A) 有著大大小小鹽山的曬鹽業  
(B) 到處都是漁船的航運及漁業  
(C) 適合親子同遊樂的海水浴場  
(D) 以珊瑚礁觀光主打的潛水業



圖 3

7. 景興國中九年級學生在11月舉行畢業旅行的活動，下表為這三天活動的行程安排，學生們第二天行程中看見的海岸景觀最可能為下列何者？

11/13 景興國中→九族文化村→嘉義耐斯王子大飯店  
11/14 嘉義→台江漁樂園→高雄義大世界  
11/15 飯店早餐→高雄十鼓橋文創園區→景興國中



8. 小伶想要依北回歸線繪製的臺灣地形剖面圖，以下為她的繪製步驟。請問下列哪個步驟需要修正？

- (A) 在臺灣等高線圖上沿著北回歸線畫一條剖面線  
(B) 在剖面線下方畫上表示距離的垂直軸，與表示高度的水平軸  
(C) 將北回歸線與等高線的每個交點，畫上垂直線到相對應的高度並標點  
(D) 將這些標點連成一條平滑曲線

9. 「金門縣社會福利好，以及政府提供離島補助，吸引不少臺灣人爭相遷戶口，搶著當金門人。」報導中所提到的島嶼位於圖4中何處？

- (A) 甲 (B) 乙  
(C) 丙 (D) 丁



圖 4

※桃園市有「千塘之鄉」的美稱，修建埤塘的原因是台地的地勢高，河流短小且地下水來源少，除了大雨及雨季有充足的供水灌溉外，經常水源不足，為了儲存雨水乃興建埤塘。從飛機上鳥瞰，眾多的池塘散佈在稻田與建築間，最多的時候，曾經有一萬多個埤塘，但現在這些埤塘卻面臨消失的危機。請依上文回答10-11題：

10. 如果想要透過即時影像，了解當地埤塘消失的情況，最適合使用下列哪種地圖？

- (A) 等高線地圖 (B) 地形剖面圖  
(C) 衛星影像圖 (D) 分層設色圖

11. 桃園地區因地勢造成河流短小、地下水來源稀少的現象。此地的地形成因是下列何種地形作用？

- (A) 斷層陷落 (B) 火山活動  
(C) 河流堆積 (D) 沖積扇抬升



※丟丟銅仔是一首臺灣著名的民謠，敘述火車通過山洞的情境。以往宜蘭人民到臺北謀生，返家時多乘坐火車，當火車通過許多隧道後，便可看到眼前大海中出現一座島嶼，就會有家鄉快要到了的溫暖感。請依上文回答請回答 12-13 題：

12. 上文中火車過山洞所通過的山脈是下列何者？  
 (A)玉山山脈 (B)雪山山脈  
 (C)中央山脈 (D)海岸山脈
13. 上文中所提到的島嶼其成因為下列何者？  
 (A)海底火山熔岩堆積 (B)海底珊瑚礁露出海面  
 (C)沿海丘陵沉入水中 (D)海岸附近的泥沙淤積

※瀕臨絕種的石虎，是臺灣現存唯一原生貓科動物。因為道路的開拓使其棲地破碎化，石虎進入道路而遭車輛撞擊、棲地流失過快、環境用藥過多以及因偷吃雞而遭農民誘捕等因素，成為陷入生存危機的族群。圖5為石虎的棲地分布圖，請回答14-15題：



14. 由圖5的資料判斷，下列哪個地形區的開發最可能直接對石虎造成生存上的威脅？  
 (A)泰源盆地 (B)林口臺地  
 (C)嘉南平原 (D)苗栗丘陵
15. 在石虎滅絕以前我們應該盡力保護牠，根據石虎的自然教育宣導，下列哪項作法對石虎保育「沒有」幫助？  
 (A)認識石虎，了解牠的棲息地的環境與生態  
 (B)開車經過石虎頻繁出沒的路段要減速慢行  
 (C)購買天然、無毒耕作方式所生產的農作物  
 (D)在石虎棲息地區開發休閒農場來親近石虎

※閱讀下列選文回答第16-17題：

東沙環礁位於南海之北，北緯20°，東經116°，從衛星影像中，可看見東沙環礁如一枚完美的指環，西北側開口鑲嵌著珊瑚砂島—東沙島。東沙群島地處國際航海重要的交通樞紐，近年來隨著南海主權問題持續升溫，地位卻日趨重要。陳水扁、馬英九總統任內，都曾訪視該地，宣揚主權。

民國96年內政部將東沙劃定為我國第7座國家公園。過去因為軍事管制，除了駐守在島上的官兵之外，民眾沒有機會登島旅遊。內政部長今年初對外宣布，東沙群島將於今年4、5月將開放試辦觀光。但這張支票遲未兌現，卡在專家建議生態措施尚須加強，做好廢污水的處理，因此東沙開放觀光可能延後，甚至繼續卡住。

16. 由東沙島的位置判斷，此島嶼應該隸屬臺灣哪個行政區？  
 (A)臺北市 (B)宜蘭縣 (C)高雄市 (D)臺東縣
17. 從上文判斷，東沙島還不能開放觀光的可能原因為下列何者？  
 (A)生態設施不足 (B)經濟效益不足  
 (C)交通發展困難 (D)主權爭議未解

18. 十七世紀的臺灣，一位基督教傳教士向當地的統治者報告宣教成果：「我們在各社成立學校與教堂，也為該地居民創造了文字，某些地區百分之八十的居民接受了基督教教義，其中半數已會閱讀並使用羅馬拼音文字。」上述的統治者最可能是下列何國？  
 (A)西班牙 (B)荷蘭 (C)葡萄牙 (D)英國
19. 十九世紀後期，一位外國軍官在日記中提到：「我們如果能攻下這個港口，就可以就近補充煤炭。但這港口有德國設計的堅固砲臺、中國指揮官劉銘傳帶來自己一手訓練的部隊，地方士紳也組織民兵投入戰場，戰爭可能不會太順利。」這位外國軍官所參加的戰爭最可能是下列何者？  
 (A)1683年鄭氏降清 (B)1858年英法聯軍  
 (C)1874年日軍侵臺 (D)1884年清法戰爭
20. 十九世紀後期，一位美國學者到台南考察，當地西拉雅族頭目帶著二十餘份文件讓他瀏覽，這些文件以羅馬字母、漢字拼寫，標註清朝雍正、乾隆及嘉慶的年號和日期，又蓋有印章。他認為這是極有價值的史料，因此便以槍枝換取了這些文件。這些文件的內容最可能是下列何者？  
 (A)郭懷一抗荷事件紀錄簿  
 (B)安平洋行在臺貿易資料  
 (C)荷蘭統治時期臺灣長官日誌  
 (D)原住民與漢人土地交易契約
21. 同學之間在討論漢人文化在臺灣的發展情形——柯南：「一直到清帝國統治時期，漢人文化才在臺灣建立基礎。」平次：「早在大航海時代時，漢人宗教文化便已在臺灣奠下根基。」請問：平次該舉下列哪一事實為例以支持自己的觀點？  
 (A)臺南的許多廟宇興建於鄭氏統治時期  
 (B)景美的集應廟歷史可追溯至臺灣開港  
 (C)一府二鹿三艋舺反映了臺灣開發順序  
 (D)赤崁樓是建立在普羅民遮城的殘跡上
22. 有篇文章提到了對某個臺灣政權的觀察：「他們的統治中心很小，但他們有好的船隻，也善用火砲，所以雖然軍隊數量不多，但各地的原住民都聽命於他們。他們又設立市場，稱為普羅民遮，福建沿海商人頻繁前來貿易。」文中所提到的統治者最可能是下列何者？  
 (A)荷蘭 (B)西班牙 (C)鄭氏 (D)清帝國
23. 老師在解說清代臺灣貿易時指出：「英國幾家貿易公司對臺灣的米、茶及糖等產品有很大的興趣，先是透過郊商購買，到1860年以後，開始在臺設立洋行，進行直接貿易。」這種轉變與下列何事有直接關聯？  
 (A)鄭氏降清 (B)英法聯軍  
 (C)日軍侵臺 (D)清法戰爭
24. 某一時期，有官員指出：「臺灣物產豐富，有硫磺、蔗糖、鹿皮，原來缺少布帛，現也不虞匱乏」，因而建議政府善加防守。只要將內地的部分軍隊移防臺灣，便可確保東南數省之安全。這種建議的歷史背景為何？  
 (A)東印度公司領有臺灣後鞏固統治的策略  
 (B)鄭成功被清軍打敗後轉移到臺灣的構想  
 (C)清廷攻下臺灣之後強化臺灣防務的建議  
 (D)劉銘傳於臺灣建省之後有關國防的規劃
25. 清廷為了有效控制臺灣，實施限定對渡口岸的措施，由於地利之便，清代漢人移民也多來自於對渡口岸附近的地區，依據史實判斷，下列何地的來臺移民最少？  
 (A)漳州 (B)泉州 (C)福州 (D)廣州



26. 某地方開發史寫到：「此地



27. 清廷為了對抗鄭氏勢力而實施海禁政策，鄭氏政權針對此一措施所產生的對策為何？
28. 清帝國統治時期，隨著臺灣地區開發日廣、人口漸增，原有的行政建置已無法有效控制與管理，因而逐步調整臺灣地方的行政區劃，由此判斷，下列哪一縣市，是清帝國最晚建置行政區劃的地區？
29. 景興國中所在地景美地名是由「梘尾」而來：所謂「梘」是一種灌溉設施，以木樁和木板構成口型槽，架跨溪流之上，讓水圳的灌溉用水通過。上述的「水圳」，最可能是下列何者？
30. 新竹縣北埔的「金廣福公館」是由金廣福墾號所設立的指揮中心，也是當地的一級古蹟，「廣」是指廣東、「福」是指福建。依上文判斷，下列關於「金廣福」的敘述何者正確？
31. 臺灣各地方地名的由來，多半可以從歷史發展中尋找到答案；例如鮮奶品牌「林鳳營」一詞原來是指臺南六甲地區的地名，此地名的由來，與下列何者有關？
32. 臺灣原本不產耕牛，主政者引進牛隻以用於耕作，並在各地修築水利設施、提供耕牛、農具與種籽，大量招募漢人前來開墾。這裡的「主政者」是指下列何者？
33. 據報導：被魯凱族部落大頭目世家視為傳家寶的青陶瓷，是十七世紀初荷蘭人用它裝棕櫚油，運到臺灣後與魯凱族部落「以物易物」，再運銷到日本。請問荷蘭人是以棕櫚油交換哪種物品？
34. 清帝國統治時期，臺灣曾出現一種稱為「郊」的組織，依其性質判斷，這種組織主要分布於右圖的何處？
35. 報載：「我國人口結構出現死亡交叉的嚴重警訊！今年1到6月有8萬8,098人死亡，卻只有8萬5,961人出生，上半年死亡人數與新生嬰兒數首度出現交叉，我國人口自然增加史上首次出現負成長，將對我國競爭力形成重大威脅。」請問：政府想解決上述問題，應該採取下列何項政策最為合適？
36. 家庭是社會中最基本的單位，為推動家庭平權，國家透過法律規範，明確界定家庭成員之間的權利義務，下列關於家庭的權利義務，何者敘述正確？
37. 主計總處調查近十年「家庭經濟戶長性別分析」資料如下，請問：根據資料判斷，最能反映下列何種現象？
- | 時間      | 女性經濟戶長 |       | 男性經濟戶長 |       |
|---------|--------|-------|--------|-------|
|         | 2007年  | 2017年 | 2007年  | 2017年 |
| 戶數      | 173萬   | 250萬  | 569萬   | 606萬  |
| 佔全體家庭比重 | 23.3%  | 29.2% | 76.7%  | 70.8% |
38. 報載：「(甲)張姓男子年輕時，曾家暴妻女，(乙)最後離婚收場，女兒由妻子扶養且沒有再連絡，多年後男子罹患癌症，生活無法自理，因此對女兒提告(丙)要求其支付扶養費，法院判決認為男子名下有房產，加上對女兒有虐待情形，(丁)女兒可免除扶養義務。」根據上文畫線處，判斷下列說法何者符合其內容？
39. 電視劇「媽媽的遙控器」中，主角阿偉原本和爸媽生活在一起，但在他國中時父母決定離婚，阿偉跟隨母親居住，母親藉由遙控器操縱阿偉的行為，發生親子衝突，成年後阿偉搬出來獨自居住。上述主角的家庭型態變化依序為何？
40. 王里長在里民辦公室張貼下列的服務資訊，請問：這個資訊最有可能是為了解決何種家庭問題？

- 開辦送餐服務
- 推動居家照護
- 設立日間照顧中心



41. 一對夫妻結婚多年仍無子女，他們決定到育幼院收養子女。根據附圖收養申請的流程，在經過法定程序後，他們將產生何種關係？



- (A) 還必須向社會局聲請認可  
(B) 成立擬制血親的親屬關係  
(C) 孩子得稱收養夫妻為乾爸、乾媽  
(D) 法律上的權利義務關係，與自然血親不同
42. 右圖是公民課老師黑板所寫的筆記內容，請問下列何者最符合該筆記探討的主題？

- (A) 家庭平權的發展  
(B) 親屬關係的形成  
(C) 親子關係的衝突  
(D) 家庭型態多樣化的因素
- 工作地點的轉變
  - 生育率下降
  - 婚姻自主性提升
  - 已婚婦女就業普及

43. 下表為 2020 年某總統候選人造勢大會上，有四組具有親屬關係的家庭成員的座位，根據內容判斷，何者具有「配偶的血親的配偶」關係？  
(A) 甲 (B) 乙 (C) 丙 (D) 丁

○○○總統候選人造勢大會			
<b>甲</b>	小翼和岳母	<b>乙</b>	小珮的媽媽和孀孀
<b>丙</b>	阿瑄和姨丈	<b>丁</b>	阿翔的爸爸和堂哥

44. 根據統計，近 10 年男性被家暴人數比率，從 17% 激增到 28%，但受傳統性別刻板印象影響，男性被要求要陽剛不能求助，所以推測男性被家暴實際比例應超過 35%。請問：家暴被害人可依《家庭暴力防治法》尋求協助，以下何者屬於其規範的內容？  
(A) 家暴限於身體上的傷害  
(B) 可以尋求教育局的保護  
(C) 可要求夫妻雙方結束婚姻關係  
(D) 可要求加害人搬離被害人的住所
45. 公民老師根據我國 103 年至 107 年家庭型態的統計值，分析我國社會的家庭型態，請問：下列敘述何者正確？  
(A) 夫婦家庭的比例逐年增加  
(B) 單親家庭的比例大幅減少  
(C) 老人安養得到良好的家庭照顧  
(D) 我國家庭型態仍以小家庭為主

家庭型態-百分比(%)統計值							
型態	單人	夫婦	單親	核心	祖孫	三代	其他
103 年	11.85	17.93	9.67	37.34	1.10	14.05	8.06
104 年	11.82	19.06	10.32	35.48	1.20	14.27	7.85
105 年	12.09	18.98	10.09	35.96	1.13	13.83	7.91
106 年	12.11	18.70	10.04	35.71	1.11	13.78	8.56
107 年	12.81	18.77	9.61	34.68	1.32	14.02	8.78

46. 南韓話題電影「82 年生的金智英」，主角金智英被嘲諷為「媽蟲」，這個詞被廣泛使用於平凡的家庭主婦，認為她們是一群「吸老公血的蟲」，忽略了對於家庭主婦而言，家庭就是 24 小時的職場，家務、育兒等問題，讓家庭主婦承受沉重的壓力。請問：依上述內容判斷，主要在探討何種社會議題？

- (A) 家務勞動價值 (B) 男女薪資平等  
(C) 家庭經濟功能轉變 (D) 勞動市場升遷機會

題組一：根據內容回答第 47 至 48 題

在高齡、高房價的時代，高齡者獨居以及青年蝸居的現象漸顯，臺北市以「青銀共居」政策，嘗試透過跨世代的居住共享方案，期能為高齡者、青年找出新生活選項。

目前臺北市陽明老人公寓，讓年輕人跟銀髮族住在一起，年輕人以低於市場行情的租金住進公寓，每月撥出 20 個小時陪長輩唱歌、烹飪、使用 3C，年輕人省荷包、長者也獲得陪伴，達到社會互助共好模式。

47. 面臨社會的現況，政府推動「青銀共居」的出發點，可能與何種家庭型態的轉變有關？  
(A) 單親家庭增多，家庭無力負擔開銷  
(B) 低薪和高房價導致少子化，夫婦家庭成為主流  
(C) 老人與子女同住比率降低，老人安養成為問題  
(D) 三代家庭居住型態衝突不斷，年輕人無法安居
48. 根據上述內容判斷，「青銀共居」的設置，可以彌補家庭的哪項功能？  
(A) 教育、生育 (B) 經濟、保護與照顧  
(C) 經濟、生育 (D) 教育、保護與照顧

題組二：根據內容回答第 49 至 50 題

陳嘉玲工作多年後，在即將跨入 40 歲大關的時候，決定步入結婚禮堂，邁進人生下一個階段，下圖是陳嘉玲的結婚喜帖。請問：

★Wedding Invitation★

謹詹於民國 108 年 12 月 4 日(星期三)  
舉行結婚典禮 敬備喜筵

新郎 新娘  
蔡永森 陳嘉玲  
男方家長 女方家長  
蔡文華 林美麗 陳晉文 吳秀琴

敬邀

席設：景星飯店幸福廳  
時間：中午十二時(敬請準時入席)

49. 根據此喜帖內容，判斷其在法律上的親屬關係，下列敘述何者正確？  
(A) 陳嘉玲與蔡永森是法定血親  
(B) 陳嘉玲與吳秀琴是旁系血親  
(C) 陳晉文與蔡永森是姻親關係  
(D) 陳晉文與林美麗是配偶關係
50. 請問：陳嘉玲應完成下列哪項程序，婚姻才算真正成立？  
(A) 舉行公開儀式 (B) 須有一人以上證人簽名  
(C) 得到法定代理人同意 (D) 雙方到戶政機關登記